



КОНТРОЛЬНЫЕ ИЗМЕРИТЕЛЬНЫЕ МАТЕРИАЛЫ

Ю. А. СМИРНОВ

ИСТОРИЯ РОССИИ

6
КЛАСС

- аттестация по всем темам курса
- задания трёх уровней сложности
- диагностические контрольные задачи – комплексная проверка усвоения темы
- ответы ко всем заданиям
- рекомендации по оцениванию работ



ЭКЗАМЕН®

Ю. А. Смирнов

История России

6 КЛАСС

- аттестация по всем темам курса
- задания трёх уровней сложности
- диагностические контрольные задачи — комплексная проверка усвоения темы
- ответы ко всем заданиям
- рекомендации по оцениванию работ

Издательство
«ЭКЗАМЕН»

МОСКВА
2014

УДК 372.8:94
ББК 74.266.3
С50

Смирнов Ю. А.

С50 История России: 6 класс: контрольные измерительные материалы / Ю. А. Смирнов. — М. : Издательство «Экзамен», 2014. — 96 с. (Серия «Контрольные измерительные материалы»)

ISBN 978-5-377-07938-5

Данное пособие полностью соответствует федеральному государственному образовательному стандарту (второго поколения).

Книга содержит контрольные измерительные материалы (КИМы) по предмету «История», аналогичные материалам ГИА.

КИМы составлены в соответствии с программой общеобразовательных учреждений, включают тематические и итоговые тесты.

В сборнике даны ответы на все варианты тестов.

Назначение пособия — отработка практических навыков учащихся по подготовке к итоговой аттестации и контроль знаний.

Приказом № 729 Министерства образования и науки Российской Федерации учебные пособия издательства «Экзамен» допущены к использованию в общеобразовательных учреждениях.

УДК 372.8:94
ББК 74.266.3

Справочное издание

Смирнов Юрий Алексеевич

ИСТОРИЯ РОССИИ

6 класс

КОНТРОЛЬНЫЕ ИЗМЕРИТЕЛЬНЫЕ МАТЕРИАЛЫ

Издательство «**ЭКЗАМЕН**»

Гигиенический сертификат № РОСС RU. АЕ51. Н 16466 от 25.03.2013 г.

Главный редактор *Л. Д. Лаппо*. Редактор *Н. В. Павлова*

Корректоры *Л. И. Иванова, Н. Н. Яковлева*

Дизайн обложки *А. А. Козлова*. Компьютерная верстка *А. П. Юскова*

107045, Москва, Луков пер., д. 8. www.examen.biz

E-mail: по общим вопросам: info@examen.biz;

по вопросам реализации: sale@examen.biz. тел./факс 641-00-30 (многоканальный)

Подписано в печать 21.03.2014. Формат 60x90/16. Гарнитура «Школьная».

Бумага офсетная. Уч.-изд. л. 3,10. Усл. печ. л. 6. Тираж 10 000 экз. Заказ № 1417.

Общероссийский классификатор продукции

ОК 005-93, том 2: 953005 — книги, брошюры, литература учебная

Отпечатано в «Красногорская типография»

143405, Московская область, г. Красногорск, Коммунальный квартал, 2

www.ktprint.ru

ISBN 978-5-377-07938-5

© Смирнов Ю. А., 2014

© Издательство «**ЭКЗАМЕН**», 2014

СОДЕРЖАНИЕ

Предисловие	4
Тест 1. Древнейшие народы на территории России.....	6
Тест 2. Восточные славяне	9
Тест 3. Формирование Древнерусского государства	12
Тест 4. Первые киевские князья.....	15
Тест 5. Владимир Святославич. Принятие христианства.....	18
Тест 6. Расцвет Древнерусского государства при Ярославе Мудром.....	21
Тест 7–8. Культура Древней Руси. Быт и нравы Древней Руси	24
Тест 9. Начало раздробления Древнерусского государства.....	27
Тест 10–11. Главные политические центры Руси	30
Тест 12. Нашествие с Востока	34
Тест 13. Борьба Руси с западными завоевателями	37
Тест 14–15. Русь и Золотая Орда. Русь и Литва	40
Тест 16. Культура русских земель в XII–XIII веках	43
Тест 17. Предпосылки объединения русских земель. Усиление Московского княжества	47
Тест 18. Москва — центр борьбы с ордынским владычеством. Куликовская битва	51
Тест 19. Московское княжество и его соседи в конце XIV — середине XV века.....	54
Тест 20. Создание единого Русского государства и конец ордынского владычества	57
Тест 21. Московское государство в конце XV — начале XVI века	60
Тест 22. Церковь и государство в конце XV — начале XVI века.....	63
Тест 23. Реформы Избранной рады.....	67
Тест 24. Внешняя политика Ивана IV	70
Тест 25. Опричнина	73
Тест 26. Просвещение, устное народное творчество, литература в XIV–XVI веках	76
Тест 27–28. Архитектура и живопись в XIV–XVI веках. Быт XV–XVI веков.....	79
Итоговое повторение.....	82
ОТВЕТЫ	91

Предисловие

Предлагаемое пособие включает тематические и итоговые проверочные тестовые работы, задания которых соответствуют формату Государственной итоговой аттестации (ГИА). Темы работ и их содержание отражают содержание и структуру учебника А. А. Данилова и Л. Г. Косулиной «История России. С древнейших времен до конца XVI века. 6 класс». Пособие может использовать и учитель, занимающийся с детьми по другому учебнику, так как содержание пособия полностью соответствует федеральному компоненту государственного стандарта общего образования и кодификатору ГИА.

В пособии представлены 24 тематические работы, которые совпадают с темами учебника А. А. Данилова и Л. Г. Косулиной (объединены лишь параграфы, посвящённые взаимоотношениям Руси с Ордой и Литвой и культуре и быту). Для удобства использования пособия в названии тематических работ дана нумерация параграфов учебника.

Каждая из тематических работ разбита на два варианта одинаковой степени сложности. В вариантах представлено по 4–7 заданий с выбором ответа и 1–3 задания с кратким ответом. Выполнение каждого варианта рассчитано приблизительно на 10–15 минут, что позволяет использовать пособие для закрепления и проверки пройденного материала на уроке. Начиная со второй работы наряду с заданиями, соответствующими содержанию параграфа, даются задания на повторение предыдущих тем (не больше одного на вариант).

Задания с выбором ответа (часть А) предполагают выбор одного правильного ответа из четырёх предложенных. Они проверяют знания дат, фактов, понятий, понимание причинно-следственных связей. Правильное выполнение каждого из этих заданий оценивается в 1 балл.

Задания с кратким ответом (часть В) предполагают в ответе написание какого-либо слова (словосочетания) или группы цифр и позволяют не только выявить имеющиеся знания, но и определённые умения, связанные с обработкой информации, умением её частично преобразовать и т.д. Правильное их выполнение оценивается в 1–2 балла в зависимости от степени сложности. Количество звёздочек у номера этих заданий показывает количество баллов, которые можно получить за их выполнение. В заданиях, оцениваемых на 2 балла, в случае одной ошибки в записи ставится 1 балл, при двух ошибках — 0 баллов.

Начиная с теста 17 в варианты вводятся элементы заданий с развёрнутым ответом на одно-два предложения (часть С). Некоторые из них оце-

ниваются в 1 балл, другие в 2 балла. Как и в случае с заданиями части В, количество звёздочек у номера этих заданий показывает количество баллов, которые можно получить за их выполнение. Критерии оценки таких заданий даются в ответах. Необходимо помнить, что предлагаемые в критериях варианты ответа являются ПРИМЕРНЫМИ. Ученики могут указать верные положения, не предусмотренные автором пособия, и могут иначе сформулировать приведённые в критериях положения.

Варианты заданий составлены таким образом, чтобы их «вес» равнялся 8 баллам. Предлагается следующая система перевода этих тестовых баллов в оценку:

Баллы	Оценка
7–8 баллов	отлично
5–6 баллов	хорошо
3–4 балла	удовлетворительно
менее 3 баллов	неудовлетворительно

В конце пособия даются два итоговых варианта для проверки по всему изученному в 6 классе курсу отечественной истории. Каждый из них состоит из 15 заданий части А, 6 заданий части В, одного задания части С и рассчитан на 35–40 минут выполнения. Варианты составлены таким образом, чтобы их «вес» равнялся 24 баллам. Предлагается следующая система перевода этих тестовых баллов в оценку:

Баллы	Оценка
20–24 балла	отлично
15–19 баллов	хорошо
10–14 баллов	удовлетворительно
менее 10 баллов	неудовлетворительно

Ко всем заданиям даются ответы в конце пособия.

При желании учителя могут использовать задания данного пособия для составления своих вариантов проверочных тестов.

Работа с пособием позволит не только закрепить изученный на уроках материал и проверить сформированные знания и умения, но и начать подготовку учащихся к ГИА и к Единому государственному экзамену (ЕГЭ). Пособие могут использовать как учителя на уроках истории, так и учащиеся старших классов для самостоятельной подготовки к экзамену.

Тест 1. Древнейшие народы на территории России

ВАРИАНТ 1

Часть А

- А1.** Когда, по мнению современных учёных, на южных территориях нашей страны появились первые люди?
- 1) около 1,5 миллионов лет тому назад
 - 2) около 700 тысяч лет тому назад
 - 3) около 40 тысяч лет тому назад
 - 4) около 10 тысяч лет тому назад
- А2.** Какое из перечисленных животных человек приручил первым?
- 1) собаку 2) корову 3) свинью 4) лошадь
- А3.** Что было одним из последствий окончания ледникового периода?
- 1) появление человека современного типа
 - 2) появление небольших объединений людей — первобытных человеческих стад
 - 3) переход человека от присваивающего к производящему типу хозяйствования
 - 4) древние люди начали использовать огонь
- А4.** Какой из перечисленных народов создал первые государственные образования на территории нашей страны?
- 1) гунны 2) авары 3) хазары 4) греки
- А5.** Какую религию исповедовала знать Хазарского каганата?
- 1) ислам 3) буддизм
2) православие 4) иудаизм

Часть В

- В1.** Запишите слово (термин), о котором идёт речь.
Объединение нескольких живущих по соседству родовых общин, имеющих общее управление и религиозный культ.

Ответ: _____.

B2. Расположите в хронологическом порядке их появления следующие государства. Укажите ответ в виде последовательности цифр выбранных элементов.

- 1) Хазарский каганат
- 2) Скифское царство
- 3) Тюркский каганат
- 4) Херсонес

--	--	--	--

B3. Какие названия из перечисленных относятся к тюркоязычным племенам? Найдите в приведённом ниже списке два названия и запишите цифры, под которыми они указаны.

- 1) мурома
- 2) мордва
- 3) болгары
- 4) черемисы
- 5) хазары

--	--

ВАРИАНТ 2

Часть А

A1. Какой регион нашей страны, по мнению учёных, первым был освоен людьми?

- 1) Урал
- 2) Западная Сибирь
- 3) Северный Кавказ и Кубань
- 4) Волго-Окское междуречье

A2. Какой вид деятельности был главным у людей в ледниковый период?

- | | |
|------------------------|-------------------|
| 1) пашенное земледелие | 3) ремесло |
| 2) скотоводство | 4) загонная охота |

A3. Когда, по мнению учёных, появился человек современного типа?

- 1) около 1,5 миллионов лет тому назад
- 2) около 700 тысяч лет тому назад
- 3) около 40 тысяч лет тому назад
- 4) около 10 тысяч лет тому назад

Тест 1. Древнейшие народы на территории России

A4. Какое из перечисленных государств появилось на территории нашей страны раньше остальных?

- 1) Боспорское царство 3) Хазарский каганат
2) Тюркский каганат 4) Волжская Булгария

A5. Какую религию в X в. приняли волжские булгары?

- 1) православие 2) ислам 3) буддизм 4) иудаизм

Часть В

B1. Запишите слово (термин), о котором идёт речь.

Широко практиковавшееся в прошлом мелкое ручное производство различных изделий, орудий труда, основанное на опыте, навыках (личном мастерстве) работника.

Ответ: _____.

B2. Расположите в хронологическом порядке следующие события. Укажите ответ в виде последовательности цифр выбранных элементов.

- 1) появление государства
2) наступление ледникового периода
3) переход человека к земледелию
4) появление соседской (территориальной) общины

--	--	--	--

B3. Какие названия из перечисленных относятся к финно-угорским племенам? Найдите в приведённом ниже списке два названия и запишите цифры, под которыми они указаны.

- 1) весь
2) хазары
3) чудь
4) авары
5) сарматы

--	--

Тест 2. Восточные славяне

ВАРИАНТ 1

Часть А

- A1.** Вторжение каких племён в Северное Причерноморье в IV в. привело к уничтожению греческих и скифских государств в этом регионе?
- 1) гуннов 2) авар 3) хазар 4) болгар
- A2.** Какая из перечисленных земледельческих культур была знакома восточным славянам в древности?
- 1) томат 2) просо 3) кукуруза 4) картофель
- A3.** Шкурки какого пушного зверя восточные славяне преимущественно использовали в качестве денег, для обмена?
- 1) бобра 2) норки 3) лисицы 4) куницы
- A4.** Что из перечисленного было характерно для общественной жизни и хозяйственной деятельности восточных славян в VII–VIII вв.?
- 1) большая роль совместной загонной охоты
2) массовое использование труда рабов на земле
3) преобладающая роль ремесла и торговли
4) совместное владение сенокосами и лесными угодьями
- A5.** Самым развитым в культурном, политическом и экономическом отношении государством, с которым контактировали восточные славяне в VIII–IX вв., была
- 1) Швеция 2) Византия 3) Польша 4) Венгрия

Часть В

- B1.** Запишите слово (термин), о котором идёт речь.
- Система земледелия, при которой в степных и лесостепных районах истощённые земли не распахивались в течение 20–30 лет, до тех пор, пока они не восстанавливали плодородие, а земледельцы переходили на другие участки земли.
- Ответ _____.

- В2.** Ниже перечислены термины, относящиеся к системе управления и общественному устройству восточных славян в VII–VIII вв. Найдите и запишите порядковый номер, под которым указан термин, не относящийся к системе управления и общественной жизни восточных славян в VII–VIII вв.

1) вече; 2) вервь; 3) старейшина; 4) племя; 5) полис.

Ответ: _____.

- В3.** Какие языческие божества относились к пантеону восточнославянских племён? Найдите в приведённом ниже списке два имени и запишите цифры, под которыми они указаны.

- 1) Мокошь
- 2) Деметра
- 3) Тор
- 4) Велес
- 5) Арес

--	--

ВАРИАНТ 2

Часть А

- А1.** Как называлась столица Хазарского каганата?
- 1) Итиль
 - 2) Ольвия
 - 3) Пантикапей
 - 4) Булгар
- А2.** Как называлась у восточных славян соседская община?
- 1) марка
 - 2) посад
 - 3) вервь
 - 4) полюдьё
- А3.** Какой вид хозяйствования был основным для восточных славян в VII–VIII вв.?
- 1) ремесло
 - 2) скотоводство
 - 3) земледелие
 - 4) охота
- А4.** Что из перечисленного было характерно для верований и религиозного культа восточных славян в VII–VIII вв.?
- 1) строительство больших каменных храмов-святилищ богам
 - 2) вера в единого бога
 - 3) массовые жертвоприношения в дни религиозных праздников
 - 4) поклонение деревянным изображениям богов — идолам

- A5.** Бортничество — это вид хозяйственной деятельности, связанный с
- 1) охотой на пушного зверя
 - 2) рыболовством
 - 3) собиранием мёда
 - 4) скотоводством

Часть В

- B1.** Запишите слово (термин), о котором идёт речь.
Народное собрание у восточных славян, на котором выбирались старейшины для ведения общих дел и решались важнейшие вопросы.
Ответ: _____.
- B2.** Ниже перечислены названия восточнославянских божеств, духов, нечистой силы и т.п. Найдите и запишите порядковый номер, под которым указано название, не относящееся к верованиям восточных славян.
1) русалка; 2) леший; 3) водяной; 4) джинн; 5) домовой.
Ответ: _____.
- B3.** Какие названия из перечисленных относятся к восточнославянским племенам? Найдите в приведённом ниже списке два названия и запишите цифры, под которыми они указаны.
- 1) сарматы
 - 2) дреговичи
 - 3) черемисы
 - 4) полочане
 - 5) болгары

--	--

Тест 3. Формирование Древнерусского государства

ВАРИАНТ 1

Часть А

- А1.** В VIII–IX вв. часть восточнославянских племён (в первую очередь поляне) платила дань
- | | |
|-------------|----------------|
| 1) половцам | 3) гуннам |
| 2) хазарам | 4) византийцам |
- А2.** Какое событие произошло раньше остальных?
- 1) смерть Рюрика
 - 2) призвание варягов в Ладогу
 - 3) убийство Аскольда и Дира
 - 4) объединение Новгорода и Киева
- А3.** Как называлось состоявшее при киевском князе войско?
- | | |
|-------------|------------|
| 1) дружина | 3) полюдье |
| 2) стрельцы | 4) гвардия |
- А4.** Прочтите отрывок из «Повести временных лет» и укажите название одного из пунктов описываемого в отрывке торгового пути.
- «...а в верховьях Днепра — волок до Ловати, а по Ловати можно войти в Ильмень, озеро великое. Из того же озера вытекает Волхов и впадает в озеро великое Нево, и устье того озера впадает в море».
- | | |
|-----------|--------------------|
| 1) Итиль | 3) Константинополь |
| 2) Булгар | 4) Багдад |

Часть В

- В1.** Запишите термин, о котором идёт речь.
- Последователь религиозных верований, отличавшихся тем, что у каждого племени, народа было множество собственных богов.
- Ответ: _____.

В2. Какие города из перечисленных возникли на раннем этапе истории русской государственности — до XI в.? Найдите в приведённом ниже списке два названия и запишите цифры, под которыми они указаны.

- 1) Воронеж
- 2) Чернигов
- 3) Новгород
- 4) Архангельск
- 5) Тамбов

--	--

В3.** Установите соответствие между терминами и их определениями: к каждому элементу первого столбца подберите соответствующий элемент из второго столбца.

ТЕРМИНЫ

- А)** воевода
- Б)** купец
- В)** старейшина

ОПРЕДЕЛЕНИЯ

- 1) человек, главным занятием которого была торговля
- 2) руководитель общерусского ополчения, ближайший помощник князя
- 3) человек, занимающийся мелким производством различных изделий, орудий труда
- 4) глава рода или соседской общины, выбираемый на вече

Запишите выбранные цифры под соответствующими буквами.

А	Б	В

ВАРИАНТ 2

Часть А

А1. Одним из центров восточнославянских союзов племён, возникших ещё до X в., был город

- | | |
|------------|--------------|
| 1) Саратов | 3) Ярославль |
| 2) Тверь | 4) Смоленск |

А2. Объединение Киева и Новгорода произошло в

- | | |
|-----------|-----------|
| 1) 862 г. | 3) 882 г. |
| 2) 879 г. | 4) 907 г. |

A3. Какой союз кочевых тюркоязычных племён совершал набеги на Русь с конца IX в. — начала X в.?

- 1) половцы 2) авары 3) гунны 4) печенеги

A4. Прочтите отрывок из сочинения историка В.О. Ключевского и укажите имя князя, о котором в нём говорится.

«[Князь] беспрепятственно спустился из Новгорода по Днепру, без особенного труда захватил по дороге ... Любеч и без борьбы завладел Киевом, погубивши своих земляков Аскольда с Диром».

- 1) Рюрик 2) Кий 3) Олег 4) Щек

Часть В

B1. Запишите слово (термин), о котором идёт речь.

Натуральный или денежный побор с покорённых племён и народов.

Ответ: _____.

B2. Какие географические пункты из перечисленных составляли торговый путь «из варяг в греки»? Найдите в приведённом ниже списке два названия и запишите цифры, под которыми они указаны.

- 1) река Днепр
2) река Днестр
3) озеро Ильмень
4) река Волга
5) озеро Селигер

--	--

B3.** Установите соответствие между названиями городских центров и союзами племён, центрами которых были эти города: к каждому элементу первого столбца подберите соответствующий элемент из второго столбца.

ГОРОДА

СОЮЗЫ ПЛЕМЁН

А) Любеч

1) ильменские словены

Б) Киев

2) радимичи

В) Чернигов

3) северяне

4) поляне

Запишите выбранные цифры под соответствующими буквами.

А	Б	В

Тест 4. Первые киевские князья

ВАРИАНТ 1

Часть А

- A1.** Укажите годы правления князя Олега Вещего.
- | | |
|----------------|----------------|
| 1) 862–879 гг. | 3) 912–945 гг. |
| 2) 879–912 гг. | 4) 945–972 гг. |
- A2.** Первый представитель правящей династии Рюриковичей, принявший христианство, — это
- | | |
|--------------------|----------------|
| 1) князь Святослав | 3) князь Олег |
| 2) княгиня Ольга | 4) князь Игорь |
- A3.** Что стало одним из результатов военных походов Святослава Игоревича?
- 1) крещение Святослава и его дружины в Византии
 - 2) объединение Новгорода и Киева
 - 3) прекращение набегов печенегов на русские земли
 - 4) разгром Хазарского каганата
- A4.** Фраза из летописи: «Если повадится волк к овцам, то унесёт всё стадо, пока не убьют его» — относится к событиям, связанным с
- 1) набегом печенегов на Киев
 - 2) конфликтом между князем Святославом и византийским императором
 - 3) походом князя Олега на Константинополь
 - 4) восстанием древлян
- A5.** Какой из перечисленных городов сделал своей столицей князь Святослав?
- | | |
|----------------|-------------|
| 1) Переяславец | 3) Любеч |
| 2) Итиль | 4) Царьград |
- A6.** Князь Святослав погиб, попав в засаду, устроенную
- | | |
|-----------------|---------------|
| 1) византийцами | 3) древлянами |
| 2) печенегами | 4) хазарами |

- A7.** Что было характерно для сбора дани в форме полюдья до середины X в.?
- 1) дань привозили местные князья в Киев
 - 2) дань выплачивалась в основном в денежной форме
 - 3) киевский князь собирал дань вместе со своей дружиной
 - 4) дань на местах собирали специально назначенные князем чиновники

Часть В

- B1.** Расположите имена первых князей в хронологическом порядке их правления. Укажите ответ в виде последовательности цифр выбранных элементов.

- | | |
|----------|--------------|
| 1) Олег | 3) Игорь |
| 2) Рюрик | 4) Святослав |

--	--	--	--

ВАРИАНТ 2

Часть А

- A1.** Что стало одним из последствий восстания древлян в 945 г.?
- 1) гибель князя Олега
 - 2) изменение в Древнерусском государстве системы сбора дани
 - 3) утверждение древлянского князя на киевском престоле
 - 4) распад Древнерусского государства
- A2.** Царьградом на Руси называли город
- | | |
|-----------|--------------------|
| 1) Итиль | 3) Рим |
| 2) Багдад | 4) Константинополь |
- A3.** Укажите дату гибели князя Святослава.
- | | | | |
|-----------|-----------|-----------|-----------|
| 1) 879 г. | 2) 912 г. | 3) 945 г. | 4) 972 г. |
|-----------|-----------|-----------|-----------|
- A4.** Появление какого понятия связано с деятельностью княгини Ольги?
- | | | | |
|----------|------------|-----------|---------|
| 1) вервь | 2) дружина | 3) погост | 4) вече |
|----------|------------|-----------|---------|
- A5.** Какой из перечисленных союзов восточнославянских племён был присоединён к Киеву позже остальных, при Святославе Игоревиче?
- | | |
|------------|-----------------------|
| 1) вятичи | 3) северяне |
| 2) кривичи | 4) ильменские словены |

- A6.** Кому из первых правителей Руси летопись приписывает характерное выражение «Иду на вы»?
- 1) княгине Ольге 3) князю Игорю
 2) князю Олегу 4) князю Святославу
- A7.** Что было характерно для деятельности первых русских князей (Олега, Игоря, Святослава)?
- 1) провозглашение христианства государственной религией Руси
 2) заключение прочного союза с Хазарским каганатом
 3) стремление контролировать весь торговый путь «из варяг в греки»
 4) освобождение восточнославянских племён от уплаты дани Киеву

Часть В

- B1.** Расположите в хронологическом порядке исторические события. Укажите ответ в виде последовательности цифр выбранных элементов.
- 1) разорение князем Святославом земель волжских булгар
 2) заключение князем Олегом торгового договора с Византией
 3) объединение Киева и Новгорода
 4) начало правления княгини Ольги

--	--	--	--

Тест 5.

Владимир Святославич.

Принятие христианства

ВАРИАНТ 1

Часть А

- A1.** Кого из богов пытался поставить князь Владимир во главе восточнославянского пантеона в ходе своей религиозной реформы?
- 1) Стрибога
 - 2) Перуна
 - 3) Велеса
 - 4) Ярило
- A2.** В каком городе, захваченном у византийцев, принял крещение князь Владимир?
- 1) Корсуни
 - 2) Андрианополе
 - 3) Константинополе
 - 4) Эфесе
- A3.** Что из названного было одним из последствий Крещения Руси?
- 1) принятие великим князем киевским короны от римского папы
 - 2) усиление роли волхвов в древнерусском обществе
 - 3) присоединение к русским землям Дунайской Болгарии
 - 4) укрепление связей Руси с Византией
- A4.** Как назывались главы церковных округов, образованных на Руси после Крещения?
- 1) архимандриты
 - 2) игумены
 - 3) епископы
 - 4) дьяконы

Часть В

- B1.** Запишите слово (термин), о котором идёт речь.
- Размер выплачиваемой Киеву подчинёнными племенами дани (и сам факт её выплаты), установленный в результате преобразований княгини Ольги.
- Ответ: _____.

В2.** Установите соответствие между событиями истории Древней Руси и их датами: к каждому элементу первого столбца подберите соответствующий элемент из второго столбца.

СОБЫТИЯ	ДАТЫ
А) гибель князя Святослава Игоревича	1) 907 г.
Б) Крещение Руси	2) 957 г.
В) поход князя Олега на Царьград	3) 972 г.
	4) 988 г.

Запишите выбранные цифры под соответствующими буквами.

А	Б	В

В3. Какие из перечисленных народов были соседями Киевской Руси при князе Владимире? Найдите в приведённом ниже списке два названия и запишите цифры, под которыми они указаны.

- | | |
|--------------------|-----------------|
| 1) поляки | 4) готы |
| 2) сарматы | 5) авары |
| 3) печенеги | |

--	--

ВАРИАНТ 2

Часть А

А1. Укажите годы правления князя Владимира Святого.

- | | |
|-----------------------|-------------------------|
| 1) 862–879 гг. | 3) 980–1015 гг. |
| 2) 912–945 гг. | 4) 1113–1125 гг. |

А2. Что из названного было одной из причин Крещения Руси?

- 1)** поражение князя Владимира в войне с Византией
- 2)** стремление великого князя киевского сплотить своё государство
- 3)** заключение Русью союза с Хазарским каганатом
- 4)** провозглашение римским папой крестового похода против Руси

А3. Как назывался в X в. присылаемый из Константинополя и имевший свою резиденцию в Киеве глава Русской православной церкви?

- | | |
|----------------------|-----------------------|
| 1) митрополит | 3) архимандрит |
| 2) патриарх | 4) игумен |

A4. Что из названного относится к деятельности князя Владимира?

- 1) установление системы сбора дани с подвластных Киеву племён — полудья
- 2) создание для защиты от нападений кочевников оборонительных рубежей на юге
- 3) борьба с Византией за Дунайскую Болгарию
- 4) разгром Итиля — столицы Хазарского каганата

Часть В

B1. Запишите слово (термин), о котором идёт речь.

Важное изменение в жизни людей, осуществляемое государственной властью, примером которого может служить изменение системы сбора дани княгиней Ольгой.

Ответ: _____.

B2.** Установите соответствие между именами правителей и произошедшими в период их правления событиями: к каждому элементу первого столбца подберите соответствующий элемент из второго столбца.

ИМЕНА

СОБЫТИЯ

- | | |
|--------------------------|---|
| A) князь Олег | 1) временный перенос столицы Древнерусского государства на Дунай |
| Б) князь Игорь | 2) первая война Руси и Польши |
| В) князь Владимир | 3) восстание древлян |
| | 4) объединение Киева и Новгорода |

Запишите выбранные цифры под соответствующими буквами.

А	Б	В

B3. Что из перечисленного появилось на Руси после принятия христианства? Найдите в приведённом ниже списке два названия и запишите цифры, под которыми они указаны.

- | | |
|---------------------|----------------------------|
| 1) волхвы | 4) иконы |
| 2) монастыри | 5) жертвоприношения |
| 3) идолы | |

--	--

Тест 6. Расцвет Древнерусского государства при Ярославе Мудром

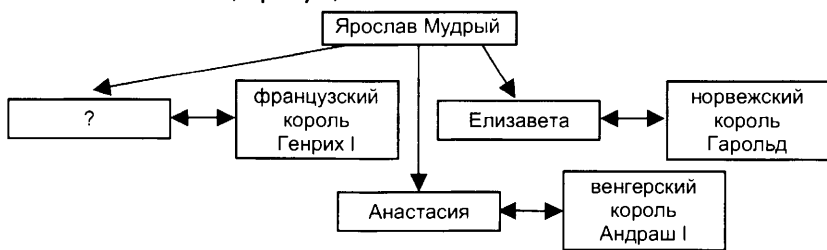
ВАРИАНТ 1

Часть А

- A1.** Укажите годы правления князя Ярослава Мудрого.
1) 945–972 гг. 3) 1019–1054 гг.
2) 980–1015 гг. 4) 1113–1125 гг.
- A2.** Укажите имя сына Владимира Святославича, причисленного Русской православной церковью к лику святых.
1) Святослав 2) Борис 3) Святополк 4) Мстислав
- A3.** Как называлась в Древней Руси категория зависимых людей, которые являлись домашними рабами господина, прислуживая ему дома, и чьё зависимое положение передавалось по наследству?
1) рядовичи 2) смерды 3) холопы 4) заупы
- A4.** Какой город из перечисленных основал Ярослав Мудрый?
1) Владимир 2) Полоцк 3) Любеч 4) Юрьев
- A5.** Что характеризовало общественную ситуацию, общественные отношения в Древней Руси времён Ярослава Мудрого?
1) почти вся земля была поделена между феодалами
2) основную массу населения составляли холопы
3) большая часть населения оставалась свободной от феодальной зависимости
4) отсутствие неравенства

Часть В

- B1.** Запишите имя, пропущенное в схеме.



Ответ: _____.

В2. Ниже перечислены названия восточнославянских племён. Найдите и запишите порядковый номер, под которым указано название племени, не относящегося к восточным славянам.

1) кривичи; 2) радимичи; 3) поляки; 4) вятичи; 5) древляне.

Ответ: _____.

В3. Какие события относятся к правлению Ярослава Мудрого? Найдите в приведённом ниже списке два события и запишите цифры, под которыми они указаны.

- 1) строительство храмов Святой Софии в Киеве и Новгороде
- 2) Крещение Руси
- 3) борьба с печенегами
- 4) убийство Аскольда и Дира
- 5) походы против Хазарского каганата

--	--

ВАРИАНТ 2

Часть А

А1. Как звали брата Ярослава Мудрого, тмутараканского князя, с которым Ярослав был вынужден делить власть над Древнерусским государством вплоть до 1036 г.?

- | | |
|--------------|--------------|
| 1) Святослав | 3) Святополк |
| 2) Борис | 4) Мстислав |

А2. Какое событие относится к правлению Ярослава Мудрого?

- 1) создание первого письменного свода законов
- 2) подчинение Киеву племён северян
- 3) крещение князя и его дружины в Корсуни (Херсонесе)
- 4) установление уроков и погостов

А3. Как назывались в Древней Руси наследственные земельные владения, жалуемые князем за службу?

- | | | | |
|------------|----------|------------|-----------|
| 1) вотчины | 2) уделы | 3) усадьбы | 4) посады |
|------------|----------|------------|-----------|

А4. Какое прозвище в истории получил брат Ярослава Мудрого — Святополк?

- | | | | |
|-----------|----------|-------------|-----------|
| 1) Святой | 2) Вещий | 3) Окаянный | 4) Старый |
|-----------|----------|-------------|-----------|

- A5.** Что характеризовало внешнеполитическое положение Древней Руси времён Ярослава Мудрого?
- 1) отсутствие угрозы со стороны кочевников
 - 2) установление династических связей со многими европейскими странами
 - 3) тесные связи с Хазарским каганатом
 - 4) международная изоляция Древней Руси, отсутствие контактов с европейскими странами

Часть В

- B1.** Запишите имя князя, пропущенное в схеме.



Ответ: _____.

- B2.** Ниже перечислены термины, относящиеся к жизни восточных славян в VIII–X вв. Найдите и запишите порядковый номер, под которым указан термин, не относящийся к жизни восточных славян указанного периода.

1) дружина; 2) урок; 3) вервь; 4) граф; 5) погост.

Ответ: _____.

- B3.** Какие термины отражают социальный состав древнерусского общества периода правления Ярослава Мудрого? Найдите в приведённом ниже списке два термина и запишите цифры, под которыми они указаны.

- 1) жильцы
- 2) закупы
- 3) дворяне
- 4) мещане
- 5) смерды

--	--

ВАРИАНТ 1

Часть А

- A1.** Одним из создателей славянской азбуки был греческий монах
- 1) Кирилл
 - 2) Константин
 - 3) Нестор
 - 4) Лев
- A2.** Создание какого произведения древнерусской культуры связано с именем митрополита Илариона?
- 1) «Слово о Законе и Благодати»
 - 2) «Поучение детям»
 - 3) «Слово о полку Игоревом»
 - 4) «Повесть временных лет»
- A3.** Понятие «зернь» относится к
- 1) видам древнерусского ювелирного мастерства
 - 2) манере письма древнерусских иконописцев
 - 3) способам письма на берестяных грамотах
 - 4) приёмам каменного строительства в Древней Руси
- A4.** Развитие живописи на Руси в X–XI вв. было последствием прежде всего
- 1) влияния искусства соседей-кочевников
 - 2) принятия христианства
 - 3) установления более тесных связей с арабским Востоком
 - 4) знакомства с искусством Скандинавии
- A5.** Как называются литературные описания жизни людей, причисленных Православной церковью к лику святых?
- 1) эпосы
 - 2) былины
 - 3) жития
 - 4) хроники

- A6.** Какая черта характеризует древнерусское искусство и литературу, начиная с XI в.?
- 1) популярность в литературе жанра романа
 - 2) заимствование византийских достижений
 - 3) преобладание языческих мотивов
 - 4) наибольшие успехи в развитии искусства скульптуры
- A7.** Чем в основном освещались древнерусские крестьянские жилища?
- 1) факелами
 - 2) свечами
 - 3) лучинами
 - 4) масляными светильниками

Часть В

- B1.** Запишите термин, о котором идёт речь.
 Русские рукописные книги с изложением исторических и современных автору событий, распределённых по годам.
 Ответ: _____.

ВАРИАНТ 2

Часть А

- A1.** Создание какого произведения древнерусской культуры связано с именем Нестора?
- 1) «Слово о Законе и Благодати»
 - 2) «Поучение детям»
 - 3) «Слово о полку Игоревом»
 - 4) «Повесть временных лет»
- A2.** Какое религиозное сооружение было построено ещё при Владимире Святом и считается одним из первых каменных храмов на Руси?
- 1) Успенский собор во Владимире
 - 2) Десятинная церковь в Киеве
 - 3) церковь Покрова Богородицы на Нерли
 - 4) церковь Фёдора Стратилата в Новгороде
- A3.** Каким материалом для письма преимущественно пользовались на Руси грамотные горожане для ведения частной переписки?
- 1) бумагой
 - 2) пергаментом
 - 3) берестой
 - 4) папирусом

- A4.** Какой вид искусства, ремесла появился на Руси благодаря принятию христианства?
- 1) деревянное зодчество 3) резьба по кости
2) ювелирное искусство 4) иконописание
- A5.** Как называются разноцветные картины из вдавленных в сырую штукатурку стекловидных камешков?
- 1) миниатюры 3) фрески
2) мозаики 4) витражи
- A6.** Какие идеи, мотивы преобладали в древнерусской литературе?
- 1) завоевания окрестных народов
2) сохранения языческой религии
3) защиты родины от внешних врагов
4) обоснования общественного неравенства
- A7.** Что характеризовало семейные отношения в Древней Руси?
- 1) свободный выбор девушками и юношами своих будущих супругов
2) равенство мужчины и женщины
3) большая власть главы семьи над всеми членами семьи
4) отсутствие насилия и принуждения

Часть В

- B1.** Запишите термин, о котором идёт речь.
Поэтические сказания о прошлом, в которых прославлялись подвиги русских богатырей — Ильи Муромца, Добрыни Никитича и др.
Ответ: _____.

Тест 9.

Начало раздробления Древнерусского государства

ВАРИАНТ 1

Часть А

- A1.** Укажите годы правления князя Владимира Мономаха.
- 1) 980–1015 гг.
 - 2) 1019–1054 гг.
 - 3) 1078–1093 гг.
 - 4) 1113–1125 гг.
- A2.** Что стало непосредственным следствием Любечского съезда князей?
- 1) кратковременное ограничение княжеских междоусобиц
 - 2) перенос столицы из Киева во Владимир
 - 3) военный поход на Византию
 - 4) принятие нового общерусского свода законов
- A3.** Что нового в законодательство вносил «Устав Владимира Мономаха»?
- 1) установление правила «божьего суда» для раскрытия преступлений
 - 2) ограничение кровной мести
 - 3) запрет обращения свободных людей в холопов за долги
 - 4) наказания за преступления против княжеской собственности
- A4.** В конце XI–XIII в. на русские земли совершали постоянные набеги племена
- 1) половцев
 - 2) аваров
 - 3) гуннов
 - 4) печенегов
- A5.** Чем характеризовалось правление Владимира Мономаха в Киеве?
- 1) опустошением русских земель в результате непрекращающихся набегов кочевников
 - 2) временным восстановлением единства Древнерусского государства
 - 3) массовым обращением свободных людей в холопство
 - 4) постоянными конфликтами князя с киевскими боярами из-за власти

- А6.** Что было одним из последствий наступившей в XII в. политической раздробленности русских земель?
- 1) усиление эффективности обороны от кочевников
 - 2) большее внимание князей к хозяйственному и культурному развитию своих земель
 - 3) замедление развития феодальных отношений
 - 4) усиление влияния Византии на русские земли

Часть В

- В1**.** Установите соответствие между понятиями, терминами и их определениями: к каждому элементу первого столбца подберите соответствующий элемент из второго столбца.

ПОНЯТИЯ, ТЕРМИНЫ ОПРЕДЕЛЕНИЯ

- | | |
|----------------|--|
| А) вече | 1) доля, владение члена княжеского рода |
| Б) рать | 2) штраф за совершённое преступление |
| В) удел | 3) войско |
| | 4) народное собрание |

Запишите выбранные цифры под соответствующими буквами.

А	Б	В

ВАРИАНТ 2

Часть А

- А1.** В каком году состоялся Любечский съезд князей, принявший решение «каждый да держит отчину свою»?
- 1) 1015 г. 2) 1054 г. 3) 1097 г. 4) 1125 г.
- А2.** Что из названного относится к причинам политической раздробленности Руси?
- 1) конфликт между христианами и язычниками
 - 2) отсутствие родственных связей между древнерусскими князьями
 - 3) стремление удельных князей к независимости от Киева
 - 4) действия заинтересованных в ослаблении Руси византийских императоров
- А3.** Что было причиной восстания киевлян в 1113 г.?
- 1) неспособность киевского князя защитить столицу от кочевников
 - 2) нежелание киевлян видеть на киевском престоле Владимира Мономаха

- 3) насильственное обращение в христианство жителей Киева
 4) тяжёлое положение киевлян из-за действий ростовщиков
- A4.** Прозвище князя Владимира Всеволодовича — Мономах — связано с его
- 1) действиями в борьбе с кочевниками
 - 2) родством с византийскими императорами
 - 3) славой умного, образованного человека
 - 4) личными чертами характера
- A5.** Свод законов, созданных Ярославом Мудрым, его сыновьями и внуками, получил название
- 1) Судебник
 - 2) Изборник
 - 3) Соборное уложение
 - 4) Русская Правда
- A6.** Наступивший в 30-е гг. XII в. политический распад Древнерусского государства привёл к
- 1) расколу Русской православной церкви
 - 2) возрождению полюдья как способа сбора дани киевским князем с подвластных земель
 - 3) снижению обороноспособности русских земель
 - 4) призыванию варягов для управления русскими землями

Часть В

В1.** Установите соответствие между именами русских князей и их деяниями: к каждому элементу первого столбца подберите соответствующий элемент из второго столбца.

ИМЕНА

ДЕЯНИЯ

А) Владимир Мономах

1) Крещение Руси

Б) Ярослав Мудрый

2) организация совместной борьбы русских князей против половцев

В) Владимир

3) заключение первого торгового соглашения Руси с Византией

Святославич

4) создание первого письменного свода законов

Запишите выбранные цифры под соответствующими буквами.

А	Б	В

Тест 10–11. Главные политические центры Руси

ВАРИАНТ 1

Часть А

- A1.** Правление какого князя относится к середине XII в.?
- 1) Александра Невского 3) Ярослава Мудрого
2) Юрия Долгорукого 4) Владимира Святого
- A2.** Какое событие относится к 1169 г.?
- 1) Любечский съезд князей
2) принятие «Устава Владимира Мономаха»
3) разгром Киева войсками Андрея Боголюбского
4) основание Нижнего Новгорода князем Юрием Всеволодовичем
- A3.** Кто из названных исторических деятелей были современниками?
- 1) Владимир Святой и Всеволод Большое Гнездо
2) Владимир Мономах и княгиня Ольга
3) Юрий Долгорукий и Ярослав Осмомысл
4) Ярослав Мудрый и Рюрик
- A4.** Основание каких городов связано с именем Юрия Долгорукого?
- 1) Воронеж, Тамбов 3) Смоленск, Любеч
2) Ростов, Суздаль 4) Звенигород, Дмитров
- A5.** Прочтите отрывок из сочинения историка В. О. Ключевского и назовите князя, о котором идёт речь.
- «Это был настоящий северный князь ...по своим привычкам и понятиям, своему политическому воспитанию... Отец дал ему в управление Владимир на Клязьме, маленький, недавно возникший суздальский пригород, и там [он] прокняжил далеко за тридцать лет своей жизни, не бывав в Киеве...
- ...Властолюбивый князь, изгнавши братьев и тех бояр, которые недостаточно ему повиновались, правил в своей земле самовластно, забывши, что он был избран народом, отягощал народ поборами и по произволу казнил смертью всякого, кого хотел».
- 1) Ярослав Мудрый 3) Юрий Долгорукий
2) Владимир Мономах 4) Андрей Боголюбский

Часть В

В1. Сравните политическую и экономическую ситуацию в Новгородской земле и в Галицко-Волынской. Выберите и запишите в первую колонку порядковые номера черт сходства, а во вторую — порядковые номера черт отличия.

- 1) управление осуществляли выбранные вечею должностные лица
- 2) развитое пашенное земледелие
- 3) большое значение имела торговля с европейскими странами
- 4) большую политическую и экономическую роль играли местные бояре

Черты сходства		Черты отличия	

В2.** Установите соответствие между правителями Древней Руси и их деяниями: к каждому элементу первого столбца подберите соответствующий элемент из второго столбца.

ИМЕНА

ДЕЯНИЯ

- | | |
|---|---|
| <p>А) Всеволод III
Большое Гнездо</p> <p>Б) Андрей
Боголюбский</p> <p>В) Юрий Долгорукий</p> | <p>1) принятие короны от римского папы</p> <p>2) установление в Северо-Восточной Руси культа Богоматери</p> <p>3) основание Москвы</p> <p>4) принятие титула великого князя владимирского</p> |
|---|---|

Запишите выбранные цифры под соответствующими буквами.

А	Б	В

ВАРИАНТ 2

Часть А

А1. Что было одной из причин процветания Новгорода в XI–XIII вв.?

- 1) плодородие новгородских земель, обеспечивавших город стабильными урожаями
- 2) сильная власть новгородского князя как залог отсутствия внутренних междоусобиц
- 3) отдалённость Новгорода от Великой степи, от набегов кочевников
- 4) прочный союз Новгорода с Московским княжеством

- A2.** При каком князе состоялся окончательный перенос столицы из Киева во Владимир?
- 1) Александре Невском 3) Всеволоде Большое Гнездо
2) Юрии Долгоруком 4) Владимире Мономахе
- A3.** Правление какого князя относится к середине XII в.?
- 1) Александра Невского 3) Ярослава Мудрого
2) Андрея Боголюбского 4) Владимира Святого
- A4.** Кто в Новгородской республике являлся высшим должностным лицом?
- 1) волостель 3) посадник
2) владыка 4) стольник
- A5.** Прочтите отрывок из сочинения историка С.М. Соловьёва и назовите князя, о котором идёт речь.

«[Князь] вошёл в Киев с четырьмя старшими сыновьями, которых посадил [на престолы] около себя: Андрея — в Вышгороде, Бориса — в Турове, Глеба — в Переяславле, Василька — на Поросье... 10-го мая 1157 г. [князь] пировал..., в ночь занемог и через пять дней умер. В день похорон (16-го мая) наделалось много зла, говорит летописец: разграбили двор [князя], который он сам звал раем, также двор Василька — сына его — в городе; перебили суздальцев по городам и сёлам, имение их разграбили: эти действия киевлян служат ясным знаком нерасположения их к [князю] и его суздальской дружине, которую он привёл с севера».

- 1) Ярослав Мудрый
2) Андрей Боголюбский
3) Владимир Мономах
4) Юрий Долгорукий

Часть В

- B1.** Сравните систему управления русскими землями в X — начале XI в. и во второй половине XII — начале XIII в. Выберите и запишите в первую колонку порядковые номера черт сходства, а во вторую — порядковые номера черт отличия.
- 1) киевский князь направлял своих сыновей наместниками в крупнейшие города Руси — Новгород, Чернигов и другие
2) в управлении большую роль играли бояре

- 3) удельные князья платили киевскому князю дань
 4) княжеская власть находилась в руках представителей одной династии — Рюриковичей

Черты сходства		Черты отличия	

В2.** Установите соответствие между русскими землями XII–XIII вв. и их характерными чертами: к каждому элементу первого столбца подберите соответствующий элемент из второго столбца.

ЗЕМЛИ

ХАРАКТЕРНЫЕ ЧЕРТЫ

- | | |
|---------------------------------------|--|
| А) Владимиро-Суздальская земля | 1) сильные города и бояре, обилие полезных ископаемых |
| Б) Киевская земля | 2) опустошение в результате набегов половцев и междоусобиц, бегство населения |
| В) Галицко-Волынская земля | 3) развитая торговля, низкоплодородные земли, большая роль вече |
| | 4) сильная княжеская власть, появление и развитие новых городов |

Запишите выбранные цифры под соответствующими буквами.

А	Б	В

Тест 12. Нашествие с Востока

ВАРИАНТ 1

Часть А

- A1.** Первое сражение русских дружин с монголо-татарами произошло на реке
1) Калке 2) Воже 3) Угре 4) Неве
- A2.** Что из перечисленного относится к причинам успеха монгольского нашествия на Русь?
1) отказ великого князя владимирского от попыток сопротивления нашествию
2) взаимные действия монголов и западных феодалов против Руси
3) ослабление русских земель в результате борьбы с Великим княжеством Литовским
4) политическая раздробленность русских земель
- A3.** К какому году относится разорение монголами города Владимира и поражение русского войска на реке Сити?
1) 1147 г. 2) 1223 г. 3) 1238 г. 4) 1380 г.
- A4.** Прочтите отрывок из «Истории России с древнейших времен» С.М. Соловьёва и укажите название города, о котором идёт в нём речь.
«[Татары] ... не дошедши ста вёрст до Новгорода, остановились ... и пошли к юго-востоку, на степь. На этой дороге Батый был задержан семь недель у города..., где княжил один из Ольговичей, молодой Василий; жители [города] решились не сдаваться татарам... Татары разбили наконец городские стены и взошли на вал, но и тут встретили упорное сопротивление: горожане резались с ними ножами, а другие вышли из города, напали на татарские полки и убили 4000 неприятелей, пока сами все не были истреблены; остальные жители, жёны и младенцы подверглись той же участи; что случилось с князем Василием, неизвестно; одни говорят, что он утонул в крови, потому что был ещё молод. С тех пор, прибавляет летописец, татары не смели называть [город] настоящим его именем, а называли злым городом».
1) Чернигов 2) Козельск 3) Москва 4) Коломна
- A5.** Какая русская земля первой пострадала от нашествия Батыя?
1) Киевское княжество 3) Рязанское княжество
2) Владимирское княжество 4) Новгородская земля

- А6.** Как звали великого князя владимирского, при котором началось нашествие Батыя?
- 1) Владимир Всеволодович 3) Даниил Романович
2) Андрей Юрьевич 4) Юрий Всеволодович

Часть В

- В1.** Расположите в хронологическом порядке события, связанные с монгольским нашествием на Русь. Укажите ответ в виде последовательности цифр выбранных элементов.
- 1) битва на реке Сити 3) захват Торжка
2) захват Владимира 4) разорение Киева

--	--	--	--

- В2.** Кто из перечисленных князей правил в Галицко-Волынской земле в период политической раздробленности (XII–XIII вв.)? Найдите в приведённом ниже списке два имени и запишите цифры, под которыми они указаны.
- 1) Святослав Ярославич 4) Роман Мстиславич
2) Ярослав Всеволодович 5) Ярослав Осмомысл
3) Всеволод Большое Гнездо

--	--

ВАРИАНТ 2

Часть А

- А1.** Что было одной из причин успеха монголов в битве на реке Калке в 1223 г.?
- 1) значительное численное преобладание монголов над русско-половецким войском
2) отсутствие единства действий у русских князей во время сражения
3) высокие военные качества монгольской пехоты
4) умелое использование монголами во время сражения тактики засады

- А2.** Прочтите отрывок из древнерусской повести и определите, к какому году относятся события, в нём описываемые.

«В двенадцатый год по перенесении чудотворного образа Николина из Корсуня. Пришёл на Русскую землю безбожный царь Батый со множеством воинов татарских и стал на реке на Воронеже близ земли Рязанской. И прислал послов непутёвых на Рязань к великому князю Юрию Ингваревичу Рязанскому, требуя у него десятой доли во всём: во князьях, во всяких

людях и в остальном. И услышал великий князь Юрий Ингваревич Рязанский о нашествии безбожного царя Батыя и тотчас послал в город Владимир к благоверному великому князю [Юрию] Всеволодовичу Владимирскому, прося у него помощи против безбожного царя Батыя или чтобы сам на него пошёл. Князь великий [Юрий] Всеволодович Владимирский и сам не пошёл, и помощи не послал, задумав один сразиться с Батыем».

- 1) 1169 г. 2) 1223 г. 3) 1237 г. 4) 1243 г.

A3. Кто был союзником русских в битве на Калке?

- 1) печенеги 2) половцы 3) византийцы 4) монголы

A4. Какой из центров русских земель не пострадал в результате Батыева нашествия?

- 1) Киев 2) Владимир 3) Новгород 4) Рязань

A5. В каком году монгольские войска захватили и разорили Киев?

- 1) 1223 г. 2) 1236 г. 3) 1240 г. 4) 1252 г.

A6. Курултай у монголов XIII в. — это

- 1) совет монгольской знати
2) подразделение монгольского войска
3) свод монгольских законов
4) религиозный праздник

Часть В

B1. Расположите в хронологическом порядке события, связанные с монгольским нашествием на Русь. Укажите ответ в виде последовательности цифр выбранных элементов.

- 1) осада Козельска
2) битва на реке Калке
3) сожжение монголами Чернигова
4) разорение Рязани

--	--	--	--

B2. С правлением каких князей связан расцвет Ростово-Суздальской (Владимиристо-Суздальской) земли в период политической раздробленности? Найдите в приведённом ниже списке два имени и запишите цифры, под которыми они указаны.

- 1) Олег Святославич 4) Юрий Долгорукий
2) Андрей Боголюбский 5) Святополк Изяславич
3) Даниил Романович

--	--

Тест 13. Борьба Руси с западными завоевателями

ВАРИАНТ 1

Часть А

А1. Почтите отрывок из жития и определите дату событий, в нём описываемых.

«Услышав о ...доблести князя Александра, король страны Римской из северной земли подумал про себя: «Пойду и завоюю землю Александрову». И собрал силу великую, и наполнил многие корабли полками своими, двинулся с огромным войском, пылая духом ратным. И пришёл в Неву, опьянённый безумием, и отправил послов своих, возгордившись, в Новгород к князю Александру, говоря: «Если можешь, защищайся, ибо я уже здесь и разорю землю твою».

...После того Александр поспешил напасть на врагов.., и была сеча великая с римлянами, и перебил их князь бесчисленное множество, а на лице самого короля оставил след острого копья своего».

1) 1169 г. 2) 1216 г. 3) 1223 г. 4) 1240 г.

А2. Какой из перечисленных народов проживал на прибалтийских землях в период нашествия западных феодалов?

1) весь 2) эсты 3) мурома 4) меря

А3. Ледовое побоище произошло на озере

1) Ладожском 2) Онежском 3) Чудском 4) Неро

А4. Что способствовало победе новгородского войска в Ледовом побоище?

1) умелое использование русскими способа засады
2) преимущество в профессионализме русских воинов
3) более совершенное вооружение русских воинов
4) отсутствие у противника конницы

А5. Какой из перечисленных городов был основан немецкими рыцарями?

1) Юрьев 2) Вильно 3) Изборск 4) Рига

А6. Почему в 1240 г. князь Александр Невский был изгнан из Новгорода?

1) новгородцы были недовольны покровительством, которое князь оказывал ростовщикам
2) новгородцы выполнили требование хана Батыя

- 3) князь не смог противостоять нашествию немецких рыцарей на Новгородскую землю
- 4) новгородские бояре опасались усиления княжеской власти

Часть В

В1.** Установите соответствие между событиями и их датами: к каждому элементу первого столбца подберите соответствующий элемент из второго столбца.

СОБЫТИЯ	ДАТЫ
А) образование Ливонского ордена	1) 1147 г.
Б) первое летописное упоминание о Москве	2) 1223 г.
В) битва на реке Калке	3) 1237 г.
	4) 1242 г.

Запишите выбранные цифры под соответствующими буквами.

А	Б	В

ВАРИАНТ 2

Часть А

- А1.** В Ледовом побоище войска под руководством Александра Невского противостояли войскам
- 1) Литвы
 - 2) Ливонского ордена
 - 3) Швеции
 - 4) Золотой Орды
- А2.** Город Ревель был основан на землях эстов в 1219 г.
- 1) датчанами
 - 2) шведами
 - 3) немцами
 - 4) новгородцами
- А3.** Кто из названных исторических деятелей был современником Александра Невского?
- 1) Всеволод Большое Гнездо
 - 2) Батый
 - 3) Владимир Мономах
 - 4) Чингисхан
- А4.** В 1240 г. на реке Неве было разбито войско
- 1) ливонских рыцарей
 - 2) датчан
 - 3) шведов
 - 4) татар

- A5.** Что способствовало победе новгородского войска в битве на Неве?
- 1) обусловленная успехами разведки внезапность нападения русских
 - 2) помощь русским со стороны монголов
 - 3) все участвовавшие в сражении русские, в отличие от противника, были профессиональными воинами
 - 4) отсутствие у противника кораблей

- A6.** Прочтите отрывок из исторического документа и определите сражение, о котором в нём говорится.

«Когда же приблизились немцы, то проведали о них стражи. Князь же Александр приготовился к бою, и пошли они друг против друга, и покрылось озеро Чудское множеством тех и других воинов. Отец Александра, Ярослав, прислал ему на помощь младшего брата Андрея с большою дружиною. Да и у князя Александра было много храбрых воинов, как в древности у Давида-царя, сильных и стойких...

Была же тогда суббота, и когда взошло солнце, сошлись противники. И была сеча жестокая, и стоял треск от ломающихся копий и звон от ударов мечей, и казалось, что двинулось замёрзшее озеро, и не было видно льда, ибо покрылось оно кровьюю.

А это слышал я от очевидца, который поведал мне, что видел воинство Божие в воздухе, пришедшее на помощь Александру. И так победил врагов помощью Божьей, и обратились они в бегство, Александр же рубил их, гоня, как по воздуху, и некуда было им скрыться».

- | | |
|-----------------------|------------------------|
| 1) битва на реке Неве | 3) битва на реке Сити |
| 2) Ледовое побоище | 4) битва на реке Калке |

Часть В

- B1**.** Установите соответствие между событиями и их датами: к каждому элементу первого столбца подберите соответствующий элемент из второго столбца.

СОБЫТИЯ	ДАТЫ
А) захват немецкими рыцарями Юрьева	1) 1224 г.
Б) Ледовое побоище	2) 1238 г.
В) битва на реке Сити	3) 1242 г.
	4) 1252 г.

Запишите выбранные цифры под соответствующими буквами.

А	Б	В

Тест 14–15. Русь и Золотая Орда. Русь и Литва

ВАРИАНТ 1

Часть А

- A1.** Появление какого понятия на Руси связано с установлением монгольского ига?
- 1) вервь 2) выход 3) вира 4) вече
- A2.** Первым золотоордынским ханом был
- 1) Мамай 2) Чингисхан 3) Батый 4) Узбек
- A3.** Что было одним из последствий установления ордынского ига над Русью?
- 1) переход населения ряда русских княжеств в ислам
2) усиление роли вече в управлении отдельными княжествами
3) бурное развитие ремесла и торговли в русских землях благодаря расширению торговых связей с Востоком
4) развитие самовластных тенденций у русских князей под влиянием ордынского примера
- A4.** Что стало последствием восстаний в русских городах в 1260–1270-х гг.?
- 1) освобождение Руси от ордынского владычества
2) установление системы баскачества в русских землях
3) передача ордынским ханом русским князьям права сбора дани
4) объединение русских земель под властью одного князя
- A5.** Какой город в XIV в. стал столицей Литовского княжества?
- 1) Ревель 2) Брест 3) Вильно 4) Гродно
- A6.** Что из перечисленного способствовало государственному объединению литовских племён в конце 30-х гг. XIII в.?
- 1) необходимость противостоять наступлению крестоносцев на литовские земли
2) приглашение представителей польской королевской династии для управления литовцами

- 3) прохождение через литовские земли торгового пути «из варяг в греки»
 4) необходимость совместной уплаты дани Золотой Орде

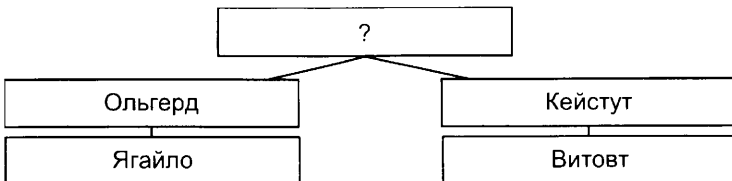
Часть В

В1. Запишите термин, о котором идёт речь.

Ханская грамота, дававшая право русским князьям властвовать в своих землях.

Ответ: _____.

В2. Запишите имя литовского князя, пропущенное в схеме.



Ответ: _____.

ВАРИАНТ 2

Часть А

- А1.** Как назывался в русских землях в XIII–XIV вв. ордынский сборщик дани?
 1) наместник 2) посадник 3) опричник 4) баскак
- А2.** Русь попала в зависимость от Золотой Орды в результате
 1) нашествия хана Батыя 3) походов Чингисхана
 2) похода хана Мамаю 4) набегов половцев
- А3.** В какой город из Киева была перенесена резиденция русского митрополита в 1299 г.?
 1) Москва 2) Владимир 3) Тверь 4) Рязань
- А4.** Признание князем Ярославом Всеволодовичем зависимости Руси от Золотой Орды привело к тому, что
 1) русские земли были обложены тяжёлой данью
 2) к Золотой Орде отошли земли Галицко-Волынского княжества

- 3) к Золотой Орде отошли земли Великого Новгорода
- 4) прекратились все набеги и карательные походы Золотой Орды на Русь

A5. Кто был первым князем Литвы, создателем Литовского княжества?

- 1) Витовт
- 2) Ольгерд
- 3) Миндовг
- 4) Ягайло

A6. Что из перечисленного было причиной практически добровольного вхождения многих русских земель в состав Великого княжества Литовского?

- 1) общность религии
- 2) нахождение на литовском престоле представителей династии Рюриковичей
- 3) надежда избавиться от уплаты тяжёлой дани Золотой Орде и получить защиту от ордынских набегов
- 4) более высокий уровень культурного развития литовских земель

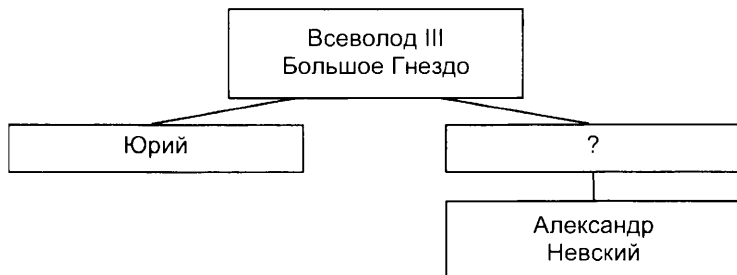
Часть В

B1. Запишите термин, о котором идёт речь.

Регулярная дань, которую собирали на Руси для хана Золотой Орды.

Ответ: _____.

B2. Запишите имя князя, пропущенное в схеме.



Ответ: _____.

Тест 16. Культура русских земель в XII–XIII веках

ВАРИАНТ 1


Часть А

- A1.** Что было характерно для новгородского летописания XII–XIII вв.?
- 1) преимущественное описание государственной деятельности новгородских князей
 - 2) счёт лет от Рождества Христова
 - 3) большое внимание к событиям городской жизни новгородцев
 - 4) постоянно звучащие в летописях призывы к объединению русских земель
- A2.** Создание какого памятника зодчества относится к правлению Андрея Боголюбского?
- 1) церкви Покрова Богородицы на Нерли
 - 2) Архангельского собора в Москве
 - 3) собора Василия Блаженного
 - 4) Софийского собора в Киеве
- A3.** О чём повествует «Слово о полку Игореве»?
- 1) о гибели киевского князя Игоря в результате восстания древлян
 - 2) о борьбе русских князей с монгольским нашествием
 - 3) о походе новгород-северского князя Игоря в половецкую степь
 - 4) о походе киевского князя Игоря на Царьград
- A4.** Какое влияние на развитие культуры русских земель имело установление их зависимости от Золотой Орды?
- 1) расцвет художественных ремёсел на Руси во второй половине XIII в.
 - 2) значительное расширение культурных контактов с западноевропейскими странами
 - 3) временное прекращение каменного строительства на Руси
 - 4) развитие нового направления в древнерусском искусстве — скульптуры

A5. Создание какого архитектурного сооружения относится к XII в.?

- 1) «Золотых ворот» в Киеве
- 2) церкви Спаса на Нередице
- 3) Софийского собора в Новгороде
- 4) Десятинной церкви в Киеве

A6. Рассмотрите изображение и выполните задание.



В каком городе находится этот памятник архитектуры конца XII в.?

- 1) Новгороде 2) Киеве 3) Галиче 4) Владимире

Часть В

B1.** Установите соответствие между авторами и их произведениями: к каждому элементу первого столбца подберите соответствующий элемент из второго столбца.

АВТОРЫ

ПРОИЗВЕДЕНИЯ

A) Иларион

1) «Слово о полку Игоревом»

Б) Даниил Заточник

2) «Поучение детям»

В) Владимир

3) «Моление»

Мономах

4) «Слово о Законе и Благодати»

Запишите выбранные цифры под соответствующими буквами.

А	Б	В

ВАРИАНТ 2

Часть А

- А1.** Что было одной из особенностей архитектуры Владимиро-Суздальской Руси XII–XIII вв.?
- 1) использование при постройке красного кирпича
 - 2) подчёркнутая пышность и торжественность построек
 - 3) стрельчатые окна и своды храмов
 - 4) шатровые навершия каменных храмов
- А2.** Какое имя связано с развитием древнерусской литературы конца XII — начала XIII в.?
- 1) Максим Грек
 - 2) Сафоний Рязанец
 - 3) Симеон Полоцкий
 - 4) Даниил Заточник
- А3.** Какое из названных литературных произведений было создано в конце XII в.?
- 1) «Повесть временных лет»
 - 2) «Слово о Законе и Благодати» митрополита Илариона
 - 3) «Слово о полку Игореве»
 - 4) «Поучение детям» Владимира Мономаха
- А4.** Что было характерно для развития русской культуры во второй половине XII в.?
- 1) практическое отсутствие каменного строительства
 - 2) строгое следование византийским канонам русскими художниками
 - 3) ведущая роль киевской художественной школы
 - 4) большое влияние церкви на развитие культуры
- А5.** Стены какого древнерусского храма украшены богатой каменной резьбой?
- 1) Спаса на Нередице
 - 2) Дмитриевского собора
 - 3) церкви Святого Георгия в Ладоге
 - 4) Софийского собора в Киеве

А6. Рассмотрите изображение и выполните задание.



По велению какого князя был создан этот шедевр древнерусской архитектуры?

- 1) Юрия Долгорукого
- 2) Андрея Боголюбского
- 3) Александра Невского
- 4) Владимира Мономаха

Часть В

В1.** Установите соответствие между известными архитектурными сооружениями X–XIII вв. и местом их постройки: к каждому элементу первого столбца подберите соответствующий элемент из второго столбца.

АРХИТЕКТУРНЫЕ
СООРУЖЕНИЯ

- А) Дмитриевский собор
- Б) Десятинная церковь
- В) церковь Спаса на Нередице

МЕСТО
ПОСТРОЙКИ

- 1) Москва
- 2) Новгород
- 3) Владимир
- 4) Киев

Запишите выбранные цифры под соответствующими буквами.

А	Б	В

Тест 17. Предпосылки объединения русских земель. Усиление Московского княжества

ВАРИАНТ 1

Часть А

- A1.** В каком году установилось ордынское иго над Русью?
1) 1237 г. 2) 1243 г. 3) 1252 г. 4) 1263 г.
- A2.** Присоединение какого города в 1303 г. позволило московским князьям взять под свой контроль весь бассейн реки Москвы?
1) Дмитров 2) Торжок 3) Юрьев 4) Можайск
- A3.** Какое событие относится к правлению московского князя Юрия Даниловича?
1) восстание в Твери против попытки Орды восстановить в русских землях систему баскачества
2) присоединение к Московскому княжеству Рязани
3) получение московским князем впервые ярлыка на великое княжение владимирское
4) перенос в Москву резиденции митрополита
- A4.** Что было одной из причин победы Москвы за лидерство в русских землях?
1) поддержанный другими землями призыв первых московских князей к борьбе с Ордой
2) старшинство московских князей в роду Рюриковичей
3) прочный союз Москвы с Литвой против Твери
4) гибкая политика московских князей в отношениях с Ордой
- A5.** Основной причиной малочисленности потомков первых московских князей во второй половине XIV в. была их гибель в результате
1) эпидемии чумы
2) постоянных войн с другими княжествами
3) междоусобицы в Московском княжестве
4) непрекращающейся борьбы против Орды

Часть В

В1. Запишите имя князя, пропущенное в схеме.



Ответ: _____.

В2. Какие из перечисленных княжеств носили название великих во второй половине XIV в.? Найдите в приведённом ниже списке два названия и запишите цифры, под которыми они указаны.

- 1) Муромское
- 2) Рязанское
- 3) Переяславское
- 4) Тверское
- 5) Ростовское

--	--

Часть С

С1. Напишите одно-два предложения, в которых объясните, почему купцы были заинтересованы в объединении русских земель.

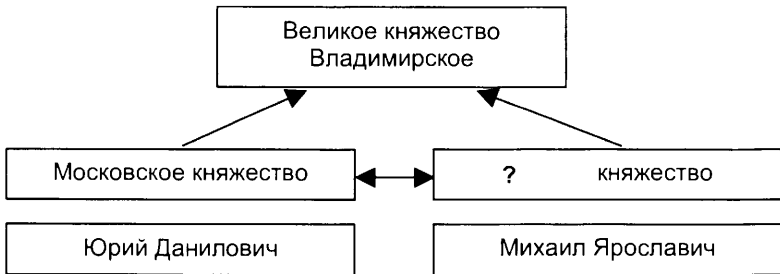
ВАРИАНТ 2

Часть А

- A1.** Как звали великого князя владимирского, первым приехавшего в Орду к хану Батюю и получившего от него ярлык на княжение?
- 1) Ярослав Всеволодович
 - 2) Юрий Всеволодович
 - 3) Александр Ярославич
 - 4) Андрей Ярославич
- A2.** Первым московским князем, основателем династии московских князей, считается князь
- 1) Иван Иванович
 - 2) Даниил Александрович
 - 3) Василий Дмитриевич
 - 4) Иван Васильевич
- A3.** Правление Ивана Калиты в Москве относится к
- 1) 1276–1303 гг.
 - 2) 1303–1325 гг.
 - 3) 1325–1340 гг.
 - 4) 1340–1353 гг.
- A4.** Какое право получил московский князь Иван Калита от Орды?
- 1) не платить Орде дань
 - 2) без согласия хана передавать ярлык на великое княжение владимирское своим сыновьям
 - 3) собирать дань для Орды с других русских земель
 - 4) принять царский титул
- A5.** Что было одной из причин возвышения Москвы?
- 1) особенно плодородные земли Московского княжества, приносившие большие урожаи
 - 2) наличие у Москвы ещё в начале XIII в. каменных стен, защищавших от набегов ордынцев
 - 3) решающая роль Москвы в освобождении русских земель от баскачества в 1270-х гг.
 - 4) отсутствие дробления княжества на уделы из-за высокой смертности в семье московских князей

Часть В

В1. Запишите название княжества, пропущенное в схеме.



Ответ: _____.

В2. Какие из перечисленных городов вошли в состав Московского княжества к середине XIV в.? Найдите в приведённом ниже списке два города и запишите цифры, под которыми они указаны.

- 1) Коломна
- 2) Суздаль
- 3) Можайск
- 4) Ростов
- 5) Ярославль

--	--

Часть С

С1. Напишите одно-два предложения, в которых опишите роль Русской православной церкви в объединении русских земель.

Тест 18. Москва — центр борьбы с ордынским владычеством. Куликовская битва

ВАРИАНТ 1

Часть А

- A1.** Какое из перечисленных княжеств вошло в состав Московского ещё в начале XIV в.?
- 1) Переяславское
 - 2) Ярославское
 - 3) Стародубское
 - 4) Костромское
- A2.** На Куликовом поле прославился князь, двоюродный брат Дмитрия Донского
- 1) Мстислав Удалой
 - 2) Владимир Храбрый
 - 3) Андрей Боголюбский
 - 4) Дмитрий Грозные Очи
- A3.** Современником Дмитрия Донского был
- 1) митрополит Алексей
 - 2) старец Филофей
 - 3) митрополит Филипп
 - 4) Иосиф Волоцкий
- A4.** Что было одной из причин успешности набега хана Тохтамыша на Москву в 1382 г.?
- 1) истощение военных сил Москвы в результате Куликовской битвы
 - 2) совместные действия хана Тохтамыша и Мамаю
 - 3) восстание в Москве против власти Дмитрия Донского
 - 4) отсутствие у Москвы каменных укреплений

Часть В

В1.** Установите соответствие между именами московских князей и событиями, связанными с их правлением: к каждому элементу первого столбца подберите соответствующий элемент из второго столбца.

МОСКОВСКИЕ КНЯЗЬЯ СОБЫТИЯ

- | | |
|--------------------------------|---|
| А) Иван Калита | 1) подавление антиордынского восстания в Твери |
| Б) Даниил Александрович | 2) получение впервые московским князем ярлыка на великое княжение владимирское |
| В) Дмитрий Иванович | 3) присоединение к Москве Коломны |
| | 4) битва на реке Воже |

Запишите выбранные цифры под соответствующими буквами.

А	Б	В

Часть С

С1.** Напишите не менее двух причин победы русских в Куликовской битве.

ВАРИАНТ 2

Часть А

А1. Как звали митрополита, дружба которого с Иваном Калитой обеспечила превращение Москвы в религиозный центр русских земель?

- 1)** Иов **2)** Иларион **3)** Пётр **4)** Алексей

- A2.** Строительство белокаменного Московского Кремля относится к правлению
- | | |
|------------------------|---------------------|
| 1) Ивана Калиты | 3) Юрия Даниловича |
| 2) Даниила Московского | 4) Дмитрия Донского |
- A3.** Русское воинство в Куликовской битве возглавлял московский князь
- | | |
|-------------------------|---------------------|
| 1) Даниил Александрович | 3) Дмитрий Иванович |
| 2) Иван Иванович | 4) Иван Данилович |
- A4.** Что стало результатом Куликовской битвы?
- 1) укрепление авторитета московского князя
 - 2) союз Москвы и Литвы против Орды
 - 3) падение ордынского ига
 - 4) усиление в Орде власти Мамаю

Часть В

В1.** Установите соответствие между именами московских князей и их современников: к каждому элементу первого столбца подберите соответствующий элемент из второго столбца.

МОСКОВСКИЕ КНЯЗЬЯ

СОВРЕМЕННОКИ

А) Иван Калита

1) Александр Невский

Б) Даниил
Александрович

2) Владимир Мономах

3) Чолхан (Щелкан)

В) Дмитрий Иванович

4) Владимир Храбрый

Запишите выбранные цифры под соответствующими буквами.

А	Б	В

Часть С

С1.** Напишите не менее двух причин успеха набега хана Тохтамыша на Москву в 1382 г.

Тест 19. Московское княжество и его соседи в конце XIV — середине XV века

ВАРИАНТ 1

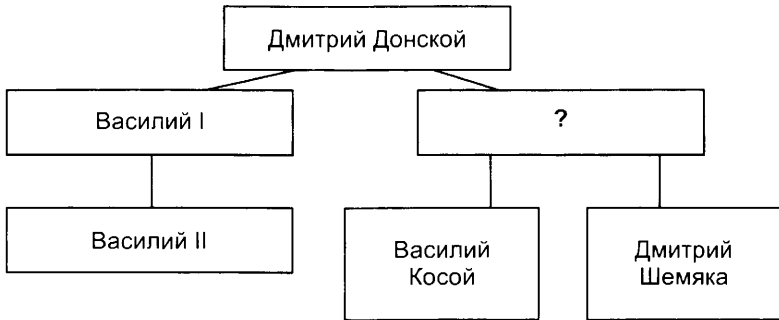
Часть А

- А1.** Что из перечисленного свидетельствовало о возросшей силе Московского княжества в конце XIV в.?
- 1) окончательное прекращение Москвой выплаты дани Орде
 - 2) присоединение к Москве Новгорода и Твери
 - 3) передача Дмитрием Донским владимирского престола сыну без согласия Орды
 - 4) принятие московским князем царского титула
- А2.** Нашествие на русские земли какого ордынского военачальника относится к 1408 г.?
- 1) Едигея
 - 2) Мамай
 - 3) Арапши
 - 4) Щелкана
- А3.** Прочтите отрывок из сочинения В.О. Ключевского и укажите, о каком князе идёт в нём речь.
- «Начав княжение чуть не ребёнком, мягкий и благодушный [князь], казалось, совсем не годился для боевой роли, какая ему была суждена. Не раз побитый, ограбленный и заточенный, наконец, ослеплённый, он, однако, вышел из 19-летней борьбы с приобретениями, которые далеко оставили за собою всё, что заработали продолжительными усилиями его отец и дед. Когда он вступал на спорный великокняжеский стол, московская вотчина была разделена на целый десяток уделов, а когда он писал свою духовную, вся эта вотчина была в его руках».
- 1) Дмитрий Донской
 - 2) Василий I
 - 3) Иван Калита
 - 4) Василий II
- А4.** Отметьте одно из последствий московской междоусобицы второй четверти XV в.
- 1) временное подчинение Москвы Твери
 - 2) замедление хода объединения русских земель
 - 3) распад Московского княжества
 - 4) переход московского престола к новой династии
- А5.** Какое прозвище в истории получил московский князь Василий II?
- 1) Мудрый
 - 2) Вещий
 - 3) Окаянный
 - 4) Тёмный

- A6.** Какое из перечисленных событий относится к 1453 г.?
- 1) разгром Орды войсками Тимура
 - 2) заключение унии между Литвой и Польшей
 - 3) падение Константинополя под ударами турок
 - 4) Грюнвальдская битва
- A7.** Что было одной из причин заключения унии Литвой и Польшей?
- 1) религиозное единство стран на момент заключения унии
 - 2) стремление Литвы освободиться от власти Золотой Орды
 - 3) необходимость вести совместную борьбу против Тевтонского ордена
 - 4) прекращение династии литовских князей

Часть В

- B1.** Запишите имя князя, пропущенное в схеме.



Ответ: _____.

ВАРИАНТ 2

Часть А

- A1.** Что было характерно для правления Дмитрия Донского?
- 1) постоянные междоусобицы в Московском княжестве между потомками Ивана Калиты
 - 2) тесный союз с Литвой в течение всего правления
 - 3) продолжение политики подчинения других русских князей власти московского князя
 - 4) беспрекословное подчинение Орде
- A2.** Какое княжество присоединил к Москве Василий I?
- | | |
|--------------|------------------|
| 1) Рязанское | 3) Нижегородское |
| 2) Тверское | 4) Ярославское |

- A3.** В период московской междоусобицы второй четверти XV в. Юрий Звенигородский и его сыновья противостояли
- 1) Василию I
 - 2) Дмитрию Донскому
 - 3) Василию II
 - 4) Ивану Калите
- A4.** Прочтите отрывок из летописи и укажите, к какому десятилетию относятся описываемые в нём события.
- «А князя великого Василия ...привели в Москву и посадили на дворе Шемякине, а сам князь Димитрий стоял на дворе Поповкине. В среду на той же неделе, на ночь, ослепили князя великого и отослали в Углич с его княгиню, а мать его великую княгиню Софью послали в Чухлому».
- 1) 1370-е
 - 2) 1390-е
 - 3) 1420-е
 - 4) 1440-е
- A5.** Чем отличалась междоусобица второй четверти XV в. от междоусобной борьбы в русских землях второй половины XIII в.?
- 1) в ходе междоусобицы князя впервые прибегли к посредничеству церкви
 - 2) борьба шла между династиями Рюриковичей и Ольгердовичей
 - 3) скреплённые близкими родственными связями князя решали междоусобный спор без использования военной силы
 - 4) спор за престол шёл исключительно между князьями московского дома
- A6.** Как звали среднеазиатского правителя, прославившегося своими завоеваниями и разгромившего в конце XIV в. Золотую Орду?
- 1) Тимур
 - 2) Едигей
 - 3) Арапша
 - 4) Мамай
- A7.** Распространение католицизма в Литве стало последствием
- 1) поражения литовских войск в войне с Тевтонским орденом
 - 2) заключения князем Ягайло личной унии с Польшей
 - 3) стремления литовских князей заручиться поддержкой римского папы в борьбе с Турцией
 - 4) завоевания Литвы польским королём

Часть В

- B1.** Запишите имя литовского князя, пропущенное в схеме.



Ответ: _____.

Тест 20. Создание единого Русского государства и конец ордынского владычества

ВАРИАНТ 1

Часть А

- A1.** Присоединение Новгорода к Московскому государству относится к
- | | |
|------------|------------|
| 1) 1453 г. | 3) 1510 г. |
| 2) 1478 г. | 4) 1521 г. |
- A2.** Прочтите отрывок из исторического источника и укажите, о каком событии идёт речь.
- «Пришла весть к великому князю, что царь Ахмат идёт в полном сборе, со своей ордой...
- Тогда-то и свершилось преславное чудо пречистой Богородицы: когда наши отступили от берега, татары, думая, что русские уступают им берег, чтобы с ними сражаться, одержимые страхом, побежали. А наши, думая, что татары перешли реку и следуют за ними, пришли в Кременец. Князь же великий с сыном своим... отошёл к Боровску... Вот тут-то и случилось чудо Пречистой: одни от других бежали, и никто никого не преследовал... И избавил Бог и Пречистая Русскую землю от нехристей...»
- | | |
|----------------------|-------------------------|
| 1) Куликовской битве | 3) стоянии на реке Угре |
| 2) взятии Казани | 4) битве на Калке |
- A3.** При Василии III у Литвы был отвоёван
- | | |
|-------------|----------|
| 1) Полоцк | 3) Киев |
| 2) Смоленск | 4) Брест |
- A4.** Что способствовало успеху московских князей в борьбе с Литвой за находившиеся под её властью русские земли?
- 1) поддержка Москвы со стороны Польши
 - 2) недовольство населения русских земель Литовского княжества принятием католицизма в качестве государственной религии
 - 3) поддержка Москвы со стороны Золотой Орды
 - 4) разгром Великого княжества Литовского в результате неудачной войны с Тевтонским орденом

A5. Кто из перечисленных исторических деятелей относится к современникам Ивана III?

- 1) Сергей Радонежский 3) Дмитрий Боброк-Волынский
2) Елена Глинская 4) Марфа Борецкая

Часть В

B1.** Установите соответствие между именами московских князей и событиями, связанными с их правлением: к каждому элементу первого столбца подберите соответствующий элемент из второго столбца.

МОСКОВСКИЕ КНЯЗЬЯ	СОБЫТИЯ
А) Василий III	1) присоединение Рязани
Б) Иван III	2) присоединение Коломны
В) Дмитрий Донской	3) набег хана Тохтамыша на Москву
	4) битва на реке Шелони

Запишите выбранные цифры под соответствующими буквами.

А	Б	В

B2. Расположите в хронологическом порядке ордынских правителей. Укажите ответ в виде последовательности цифр выбранных элементов.

- 1) хан Узбек 3) хан Батый
2) хан Ахмат 4) Мамай

--	--	--	--

ВАРИАНТ 2

Часть А

A1. Что из названного было последствием события, вошедшего в историю как «стояние на реке Угре»?

- 1) падение ордынского ига
2) присоединение к Москве Нижегородского княжества
3) разорение ордынским войском Москвы
4) захват московского престола Дмитрием Шемякой

A2. Присоединение Твери к Московскому государству относится к
1) 1392 г. 2) 1425 г. 3) 1464 г. 4) 1485 г.

- A3.** При каком князе объединение русских земель завершилось присоединением Рязанского княжества?
 1) Василии II 2) Иване III 3) Иване II 4) Василии III
- A4.** Кто из перечисленных исторических деятелей относится к современникам Ивана III?
 1) Едигей 3) Тимур
 2) хан Ахмат 4) хан Тохтамыш
- A5.** Прочтите отрывок из исторического источника и укажите, с каким явлением связано описываемые в нём события.

«Не хотим за великого князя московского, не хотим называться его вотчиной, мы люди вольные, не хотим терпеть обиды от Москвы, хотим за короля польского и великого князя Литовского Казимира» — так кричали на вече бояре и их сторонники».

- 1) падением ордынского ига
 2) заключением унии между Литвой и Польшей
 3) борьбой Новгорода за сохранение независимости
 4) междоусобицей в Московском княжестве между потомками Дмитрия Донского

Часть В

- В1**.** Установите соответствие между событиями и их датами: к каждому элементу первого столбца подберите соответствующий элемент из второго столбца.

СОБЫТИЯ	ДАТЫ
А) стояние на реке Угре	1) 1380 г.
Б) Куликовская битва	2) 1410 г.
В) Грюнвальдская битва	3) 1445 г.
	4) 1480 г.

Запишите выбранные цифры под соответствующими буквами.

А	Б	В

- В2.** Расположите территории в хронологическом порядке их присоединения к Московскому княжеству. Укажите ответ в виде последовательности цифр выбранных элементов.

- 1) Новгород Великий 3) Нижегородское княжество
 2) Можайск 4) Тверь

--	--	--	--

Тест 21. Московское государство в конце XV — начале XVI века

ВАРИАНТ 1

Часть А

- A1.** Что характеризовало русское войско конца XV — начала XVI в.?
- 1) большинство войска составляли вооружённые огнестрельным оружием стрельцы
 - 2) войско делилось на отдельные дружины, во главе которых стояли удельные князья
 - 3) войско в основном набиралось из крестьян и посадских людей
 - 4) основу войска составляли помещики со своими вооружёнными холопами
- A2.** В каком году был принят первый свод законов единого Русского государства — Судебник?
- 1) 1380 г. 2) 1445 г. 3) 1497 г. 4) 1521 г.
- A3.** Как назывался орган управления Русским государством, сформировавшийся в XV в.?
- 1) Верховный тайный совет 3) Приказ тайных дел
2) Боярская дума 4) Земский собор
- A4.** Что стало одной из причин начала процесса закрепощения крестьян в конце XV в.?
- 1) перепись населения с целью выплаты Орде тяжёлой дани
 - 2) необходимость в рабочей силе для вотчинных мануфактур
 - 3) переход к рекрутской системе комплектования войска
 - 4) требования дворян-помещиков ограничить переход крестьян
- A5.** Как в XVI в. назывались лично свободные крестьяне, проживавшие на государственных землях?
- 1) черносошные 3) казаки
2) владельческие 4) холопы

Часть В

- B1.** Запишите термин, о котором идёт речь.
Порядок назначения на должности в Московском государстве XV–XVII вв. по знатности рода и важности должностей, занимаемых предками.
- Ответ: _____.

В2. Ниже перечислены термины, относящиеся к системе управления и территориальному делению Московского государства конца XV — начала XVI в. Найдите и запишите порядковый номер, под которым указан термин, не относящийся к системе управления и территориальному делению Московского государства указанного периода.

- 1) стан; 2) боярин; 3) наместник; 4) Казна; 5) вече.

Ответ: _____.

В3. Сравните систему управления русскими землями во второй половине XII — начале XIII в. и в конце XV — начале XVI в. Выберите и запишите в первую колонку порядковые номера черт сходства, а во вторую — порядковые номера черт отличия.

- 1) основной единицей территориального деления были уезды
- 2) в управлении большую роль играли бояре
- 3) княжеская власть находилась в руках представителей династии Рюриковичей
- 4) удельные князья проводили независимую от великого князя политику

Черты сходства		Черты отличия	

ВАРИАНТ 2

Часть А

- А1.** В XV в. территория Московского государства делилась на
 1) губернии 2) провинции 3) области 4) уезды
- А2.** Какой из перечисленных терминов использовался в Судебнике Ивана III?
 1) подушная подать 3) пожилое
 2) рекрут 4) закуп
- А3.** Какой новый титул в обозначении своей возросшей власти принял Иван III?
 1) император
 2) Великий князь Московский
 3) государь всея Руси
 4) Великий князь Владимирский

- A4.** Что характеризовало систему управления Русским государством конца XV — начала XVI в.?
- 1) опора великого князя при управлении государством на бояр
 - 2) назначение на высшие должности зависело исключительно от личных заслуг и талантов
 - 3) вся территория государства дробилась на уделы
 - 4) сохранение вечевого порядка управления
- A5.** Как назывались стоявшие во главе казачьих общин выборные должностные лица?
- 1) окольные 2) тысяцкие 3) атаманы 4) воеводы

Часть В

- B1.** Запишите термин, о котором идёт речь.
Существовавший в Московском государстве в XIV–XVI вв. порядок содержания должностных лиц (наместников и других) за счёт местного населения.
Ответ: _____.
- B2.** Ниже перечислены термины, относящиеся к системе управления и территориальному делению Московского государства конца XV — начала XVI в. Найдите и запишите порядковый номер, под которым указан термин, не относящийся к системе управления и территориальному делению Московского государства указанного периода.
1) волость; 2) посадник; 3) Дворец; 4) Боярская дума; 5) местничество.
Ответ: _____.
- B3.** Сравните социальную и экономическую систему русских земель XI–XII вв. и конца XV — начала XVI в. Выберите и запишите в первую колонку порядковые номера черт сходства, а во вторую — порядковые номера черт отличия.
1) ограничения на переход крестьян от владельца к владельцу правилом Юрьева дня
2) существование поместного землевладения
3) использование в феодальном хозяйстве труда холопов
4) существование вотчин

Черты сходства		Черты отличия	

Тест 22. Церковь и государство в конце XV — начале XVI века

ВАРИАНТ 1

Часть А

- A1.** Что было одной из причин изменения в середине XV в. порядка назначения главы Русской православной церкви?
- 1) возросший авторитет константинопольского патриарха
 - 2) влияние идей ереси «жидовствующих», требовавших изменений в церковной иерархии
 - 3) стремление церкви стать более независимой от светских властей
 - 4) ослабление связей с Византией, гибнущей под ударами турок
- A2.** Основание какого известного монастыря относится к XV в.?
- 1) Соловецкого
 - 2) Троице-Сергиевого
 - 3) Данилова
 - 4) Новодевичьего
- A3.** Прочтите отрывок из сочинения В.О. Ключевского и укажите, к какому веку относится начало спора, о котором в нём идёт речь.
- «В поднявшемся споре обозначились два направления монашества, исходившие из одного источника — из мысли о необходимости преобразовать существующие монастыри. Общежитие прививалось в них очень туго; даже в тех из них, которые считались общежительными, общее житие разрушалось примесью osobного. Одни хотели в корне преобразовать все монастыри на основе нестяжательности, освободив их от вотчин; другие надеялись исправить монастырскую жизнь восстановлением строгого общежития, которое примирило бы монастырское землевладение с монашеским отречением от всякой собственности. Первое направление проводил преп[одобный] Нил Сорский, второе — преп[одобный] Иосиф Волоцкий».
- 1) XIII в.
 - 2) XIV в.
 - 3) XV в.
 - 4) XVI в.
- A4.** Каким религиозным деятелем была окончательно сформулирована теория «Москва — Третий Рим»?
- 1) митрополитом Петром
 - 2) митрополитом Алексеем
 - 3) Сергием Радонежским
 - 4) старцем Филофеем

Часть В

- В1.** Запишите термин, о котором идёт речь.
Высший орган управления Русской церковью в XV–XVI вв., на котором избирали митрополита и решали другие важнейшие вопросы церковной жизни.

Ответ: _____.

- В2.** Расположите в хронологическом порядке имена видных деятелей Русской православной церкви. Укажите ответ в виде последовательности цифр выбранных элементов.

- 1) митрополит Иларион 3) Иосиф Волоцкий
2) Сергей Радонежский 4) митрополит Пётр

--	--	--	--

Часть С

- С1**.** Напишите не менее двух положений, раскрывающих содержание учения ереси «жидовствующих».

ВАРИАНТ 2

Часть А

- А1.** Что было одним из последствий изменения в середине XV в. порядка назначения главы Русской православной церкви?
- 1) усиление зависимости Русской церкви от константинопольского патриарха
 - 2) раскол Русской православной церкви, появление старообрядцев
 - 3) усиление возможности московского государя вмешиваться в дела церкви
 - 4) падение авторитета церкви в глазах населения

- A2.** Одним из духовных лидеров нестяжателей был
- | | |
|-------------------|-----------------------|
| 1) старец Филофей | 3) Нил Сорский |
| 2) дьякон Карп | 4) митрополит Макарий |
- A3.** Начало спора иосифлян и нестяжателей относится к правлению
- | | | | |
|--------------|--------------|----------------|-------------|
| 1) Василия I | 2) Ивана III | 3) Василия III | 4) Ивана IV |
|--------------|--------------|----------------|-------------|
- A4.** Прочтите отрывок из сочинения В.О. Ключевского и укажите, о каком церковном деятеле в нём идёт речь.

«[Он] был великим устроителем монастырей: своим смирением, терпеливым вниманием к людским нуждам и слабостям и неослабным трудолюбием он умел не только установить в своей обители образцовый порядок иноческого общежития, но и воспитать в своей братии дух самоотвержения и энергии подвижничества. Его призывали строить монастыри и в Москву, и в Серпухов, и в Коломну. Он пользовался всяким случаем завести обитель, где находил то нужным. В 1365 г. великий князь Димитрий Донской послал его в Нижний Новгород мирить ссорившихся князей — братьев Константиновичей, и на пути, мимоходом, он нашёл время в глуши Гороховского уезда, на болоте при реке Клязьме, устроить пустынку, воздвигнуть в ней храм св. Троицы и поселить «старцев пустынных отшельников, а питались они лыками и сено по болоту косили». [Эта обитель] и развила широкую колонизаторскую деятельность».

- | | |
|--------------------|-----------------------|
| 1) митрополит Пётр | 3) митрополит Иона |
| 2) Иосиф Волоцкий | 4) Сергей Радонежский |

Часть В

- B1.** Запишите термин, о котором идёт речь.
Учение, отклоняющееся от господствующих положений религиозного учения, от позиций официальной церкви (примером могут служить стригольники и «жидовствующие»).
- Ответ: _____.
- B2.** Расположите в хронологическом порядке события истории Русской православной церкви. Укажите ответ в виде последовательности цифр выбранных элементов.
- | |
|---|
| 1) перенос резиденции митрополита в Москву |
| 2) основание Троице-Сергиева монастыря |
| 3) строительство соборов святой Софии в Новгороде и Киеве |
| 4) первое избрание русского митрополита на церковном соборе |

--	--	--	--

Часть С

С1.** Напишите не менее двух положений, раскрывающих содержание учения нестяжателей.

Тест 23. Реформы Избранной рады

ВАРИАНТ 1

Часть А

- A1.** К реформам правительства Елены Глинской относится
- 1) начало выпуска первой общерусской монеты — копейки
 - 2) принятие «Стоглава»
 - 3) созыв первого Земского собора
 - 4) введение подушной подати
- A2.** Какое событие относится к 1547 г.?
- 1) венчание на царство Ивана IV
 - 2) принятие первого общерусского Судебника
 - 3) завоевание Смоленска Василием III
 - 4) присоединение Рязани к Московскому государству
- A3.** Какое понятие из перечисленных относится к системе управления Русским государством XVI–XVII вв.?
- 1) баскаки 2) министерства 3) приказы 4) коллегии
- A4.** Какое понятие относится к системе местного управления и самоуправления, сложившейся в результате реформ Избранной рады?
- 1) губернаторы 3) вече
- 2) городские думы 4) земские старосты
- A5.** Что было одним из последствий реформ Избранной рады?
- 1) ослабление военной мощи Русского государства
 - 2) расширение прав наместников
 - 3) усиление центральной власти
 - 4) ликвидация поместного землевладения
- A6.** Рассмотрите изображение и выполните задание.



Кто изображён на рисунке?

- | | |
|-------------------|-------------|
| 1) воины-помещики | 3) пушкари |
| 2) гвардейцы | 4) стрельцы |

Часть В

В1. Запишите термин, о котором идёт речь.

Состоявший из представителей различных слоёв населения общегосударственный орган при царе, созывавшийся для решения наиболее важных государственных дел (впервые — в 1549 г.).

Ответ: _____.

В2. Ниже перечислены имена современников Ивана IV. Найдите и запишите порядковый номер, под которым указано историческое лицо, не являвшееся современником Ивана IV.

- 1) Софья Палеолог; 2) митрополит Макарий; 3) А.Ф. Адашев;
4) Елена Глинская; 5) И.М. Висковатый.

Ответ: _____.

ВАРИАНТ 2

Часть А

А1. Что было одним из последствий венчания Ивана IV на царство?

- 1) признание всеми «осколками» Золотой Орды вассальной зависимости от Москвы
- 2) признание западными странами наследственных прав русских государей на византийское наследство
- 3) упразднение Боярской думы
- 4) укрепление авторитета власти московского государя внутри его государства

А2. Кто из перечисленных духовных лиц входил в состав Избранной рады?

- | | |
|-----------------------|-------------------|
| 1) митрополит Пётр | 3) отец Сильвестр |
| 2) митрополит Алексей | 4) Нил Сорский |

А3. Созыв первого Земского собора произошёл в

- | | |
|------------|------------|
| 1) 1549 г. | 3) 1598 г. |
| 2) 1564 г. | 4) 1613 г. |

- A4.** Что нового вносил Судебник Ивана IV по сравнению с Судебником 1497 г.?
- 1) регулировались вопросы судопроизводства
 - 2) вводилось правило Юрьева дня
 - 3) устанавливалось пожилое
 - 4) вводились наказания за взятки
- A5.** Какая из перечисленных реформ относится к реформам Избранной рады?
- 1) введение правила Юрьева дня
 - 2) отмена кормлений
 - 3) создание Боярской думы
 - 4) отмена местничества
- A6.** Рассмотрите изображение и выполните задание.



Кто изображён на рисунке?

- 1) драгуны 2) казаки 3) гвардейцы 4) стрельцы

Часть В

- B1.** Запишите термин, о котором идёт речь.
Органы центрального управления России в XVI — начале XVIII в.
Ответ: _____.
- B2.** Ниже перечислены термины, относящиеся к реформам середины XVI в. Найдите и запишите порядковый номер, под которым указан термин, не относящийся к ним.
1) Судебник; 2) Уложение о службе; 3) Русская Правда; 4) губные старосты; 5) «Стоглав».
Ответ: _____.

Тест 24. Внешняя политика Ивана IV

ВАРИАНТ 1

Часть А

А1. Прочтите отрывок из записок иностранца Исаака Массы и определите, о событиях какого года в нём говорится.

«Когда казанцы отпали и подняли великий мятеж, то царь решил покорить их силою и шесть раз посылал против них войско, один раз в год; на седьмой год он сам лично отправился в поход с несметным войском, состоявшим из четырёхсот тысяч человек, способных носить оружие.

...Итак, ...он выехал из Москвы, где оставил вместо себя митрополита Макария с великою княгинею и её сыном, молодым принцем Фёдором.., и, прибыв к войску, стоящему под Казанью, прибегал к хитростям для того, чтобы взять этот город, сделал несколько приступов и наконец взял её штурмом.., чему весьма помог подкоп, подведённый к самому городу под рекой Волгой...»

- 1) 1521 г. 2) 1547 г. 3) 1552 г. 4) 1568 г.

А2. Какой «осколок» Золотой Орды (оставшееся после её распада государственное образование) остался не завоёванным Русским государством к концу XVI в.?

- 1) Крымское ханство 3) Астраханское ханство
2) Сибирское ханство 4) Казанское ханство

А3. Кто из перечисленных исторических деятелей был современником Ивана IV?

- 1) Семен Дежнёв 3) Афанасий Никитин
2) Ермак Тимофеевич 4) Витус Беринг

А4. Как звали польского короля, талантливого полководца, возглавившего войско своей страны в конце Ливонской войны?

- 1) Стефан Баторий 3) Казимир IV
2) Сигизмунд III 4) Ягайло I

А5. Что относится к результатам Ливонской войны?

- 1) присоединение Ливонии
2) присоединение Смоленска
3) потеря Яма, Копорья и Ивангорода
4) потеря Пскова

Часть В

В1. Расположите события военной и внешнеполитической истории Московского государства XV–XVI вв. в хронологическом порядке. Укажите ответ в виде последовательности цифр выбранных элементов.

- 1) присоединение Смоленска
- 2) взятие Казани войсками Ивана IV
- 3) начало Ливонской войны
- 4) стояние на реке Угре

--	--	--	--

В2.** Установите соответствие между событиями и их датами: к каждому элементу первого столбца подберите соответствующий элемент из второго столбца.

СОБЫТИЯ

ДАТЫ

- | | |
|------------------------------|------------|
| А) оборона Пскова от поляков | 1) 1471 г. |
| Б) битва на реке Шелони | 2) 1503 г. |
| В) присоединение Астрахани | 3) 1556 г. |
| | 4) 1581 г. |

Запишите выбранные цифры под соответствующими буквами.

А	Б	В

ВАРИАНТ 2

Часть А

А1. Прочтите отрывок из летописи и определите, к какому году он относится.

«Лета 7060 месяца июля 21 царь крымский Давлет-Гирей приходил на Тулу и стоял под городом 2 дни, а в третий день побегал из земли вон от царя и великого князя Иоанна Васильевича всея Руси. И царь князь великий послал за ним воевод своих, а сам пошёл на Казань воевати.

Того ж лета месяца октября в 2 день на память святого священномученика Киприяна и святых мученицы Устины царь князь великий Казань взял».

- 1) 1547 г.
- 2) 1552 г.
- 3) 1556 г.
- 4) 1564 г.

А2. Какие земли были присоединены в результате восточной политики Ивана IV?

- 1) казахские степи
- 2) Поволжье
- 3) Дальний Восток
- 4) Крым

- A3.** Что из названного было причиной Ливонской войны?
- 1) стремление Русского государства получить удобный выход к Балтийскому морю
 - 2) попытка Ливонского ордена присоединить новгородскую и псковскую земли
 - 3) притязания польского короля на московский престол
 - 4) крестовый поход против Руси, провозглашённый римским папой
- A4.** Какое из перечисленных государств участвовало в Ливонской войне против Русского государства?
- 1) Швеция
 - 2) Дания
 - 3) Австрия
 - 4) Венгрия
- A5.** В конце Ливонской войны мужественная защита какого русского города позволила остановить польское наступление на русские земли?
- 1) Новгорода
 - 2) Смоленска
 - 3) Пскова
 - 4) Полоцка

Часть В

- B1.** Расположите события военной и внешнеполитической истории Московского государства XV–XVI вв. в хронологическом порядке. Укажите ответ в виде последовательности цифр выбранных элементов.
- 1) присоединение Рязанского княжества
 - 2) поход Ермака в Сибирь
 - 3) освобождение от ордынского ига
 - 4) присоединение Астрахани

--	--	--	--

- B2**.** Установите соответствие между московскими правителями и результатами их внешней политики: к каждому элементу первого столбца подберите соответствующий элемент из второго столбца.

ПРАВИТЕЛИ

РЕЗУЛЬТАТЫ

- | | |
|----------------|---|
| А) Василий I | 1) присоединение Нижегородского княжества |
| Б) Василий III | 2) завоевание выхода к Чёрному морю |
| В) Иван IV | 3) завершение объединения русских земель |
| | 4) завоевание Казани |

Запишите выбранные цифры под соответствующими буквами.

А	Б	В

Тест 25. Опричнина

ВАРИАНТ 1

Часть А

- A1.** Современником Ивана Грозного был
1) митрополит Алексей 3) Александр Меншиков
2) Андрей Курбский 4) Фёдор Ртищев
- A2.** К злодеяниям Ивана Грозного времён опричнины относится убийство митрополита
1) Илариона 2) Филиппа 3) Макария 4) Алексея
- A3.** Что из названного относится к результатам проведения политики опричнины?
1) ограничение самодержавной власти
2) развитие боярского землевладения
3) хозяйственное разорение страны
4) укрепление обороноспособности Русского государства
- A4.** Что означает термин «заповедные годы»?
1) время существования опричнины
2) время перемирия между Русским государством и Ливонским орденом в период Ливонской войны
3) временное ограничение торговли с другими странами в период Ливонской войны
4) временный запрет на переход крестьян в Юрьев день, введённый в конце правления Ивана IV

Часть В

- В1**.** Установите соответствие между событиями и их датами: к каждому элементу первого столбца подберите соответствующий элемент из второго столбца.

СОБЫТИЯ

- А)** начало опричнины
Б) венчание на царство Ивана IV
В) начало Ливонской войны

ДАТЫ

- 1)** 1547 г.
2) 1558 г.
3) 1565 г.
4) 1583 г.

Запишите выбранные цифры под соответствующими буквами.

А	Б	В

Часть С

С1.** Напишите не менее двух причин разрыва Ивана IV с членами Избранной рады.

ВАРИАНТ 2

Часть А

- А1.** Что было одной из причин хозяйственного разорения русских земель в последней трети XVI в.?
- 1) произвол на местах бояр-кормленщиков
 - 2) тяготы Ливонской войны
 - 3) неудачная денежная реформа по введению медных денег
 - 4) затяжная борьба с Казанским и Астраханским ханствами
- А2.** Малюта Скуратов — это
- 1) член Избранной рады
 - 2) один из воевод, возглавлявших русские войска в Куликовской битве
 - 3) один из руководителей опричнины
 - 4) руководитель крестьянского восстания начала XVII в.
- А3.** Что было одной из причин конфликта царя Ивана IV с членами Избранной рады?
- 1) отказ членов Избранной рады признавать царский титул Ивана IV
 - 2) различия в представлениях царя и Избранной рады о приоритетах внешней политики
 - 3) несогласие царя с военными реформами, проводимыми Избранной радой
 - 4) политика Избранной рады вела к массовому недовольству, к широкомасштабным народным восстаниям

- A4.** Принятие какой меры относится к концу царствования Ивана IV?
- 1) введение правила Юрьева дня
 - 2) введение пожилого
 - 3) создание системы кормления
 - 4) введение «заповедных лет»

Часть В

- B1**.** Установите соответствие между именами исторических лиц и родом их деятельности: к каждому элементу первого столбца подберите соответствующий элемент из второго столбца.

ИМЕНА

РОД ДЕЯТЕЛЬНОСТИ

- | | |
|---|---|
| <p>A) Андрей Курбский</p> <p>Б) Ермак Тимофеевич</p> <p>В) Макарий</p> | <p>1) церковный и политический деятель, участник Избранной рады</p> <p>2) дьяк Посольского приказа, руководитель внешней политики Русского государства в начале правления Ивана IV</p> <p>3) казачий атаман, завоеватель Сибири</p> <p>4) воевода, участник Избранной рады, перешедший во время Ливонской войны на сторону противника</p> |
|---|---|

Запишите выбранные цифры под соответствующими буквами.

А	Б	В

Часть С

- C1**.** Напишите не менее двух положений, раскрывающих содержание опричной политики.

Тест 26. Просвещение, устное народное творчество, литература в XIV–XVI веках

ВАРИАНТ 1

Часть А

- А1.** Кто из названных исторических лиц был первым российским книгопечатником?
- 1) Симеон Ушаков
 - 2) Иван Фёдоров
 - 3) Симеон Полоцкий
 - 4) Фёдор Конь
- А2.** Для русской культуры второй половины XIV–XV в. характерно
- 1) усиление светских начал в искусстве и литературе
 - 2) отсутствие каменного строительства и упадок иконописания, связанные с последствиями Батыева нашествия
 - 3) широкое распространение научных знаний
 - 4) распространение идей единства русской земли в литературе и искусстве
- А3.** С какой западноевропейской страной в конце XV в. у Русского государства установились наиболее тесные культурные контакты?
- 1) Италией
 - 2) Францией
 - 3) Испанией
 - 4) Португалией
- А4.** И.С. Пересветов был одним из первых русских
- 1) драматургов
 - 2) историков
 - 3) публицистов
 - 4) поэтов
- А5.** Что было одной из характерных черт московского летописания?
- 1) отказ считать Московское государство преемником Киевской Руси
 - 2) переход в счёте лет от сотворения мира к отсчёту лет от Рождества Христова
 - 3) стремление подчеркнуть мысль о необходимости государственного единства
 - 4) критика великокняжеской власти за стремление к деспотизму

А6. К какому времени относится создание «Сказания о князьях Владимирских»?

- 1) XIII в. 2) XIV в. 3) XV в. 4) XVI в.

Часть В

В1.** Установите соответствие между именами деятелей культуры и их произведениями, достижениями: к каждому элементу первого столбца подберите соответствующий элемент из второго столбца.

ИМЕНА

ПРОИЗВЕДЕНИЯ, ДОСТИЖЕНИЯ

- | | |
|------------------------------|-------------------------------------|
| А) отец Сильвестр | 1) составление «Четьи Миней» |
| Б) Сафоний Рязанец | 2) «Повесть временных лет» |
| В) митрополит Макарий | 3) редакция «Домостроя» |
| | 4) «Задонщина» |

Запишите выбранные цифры под соответствующими буквами.

А	Б	В

ВАРИАНТ 2

Часть А

А1. При каком правителе в Москве началось книгопечатание?

- | | |
|--------------------|------------------|
| 1) Дмитрию Донском | 3) Иване III |
| 2) Василии II | 4) Иване Грозном |

А2. Развитие русской культуры в XIV–XV вв. характеризуется

- 1) освобождением русского искусства и литературы от византийского влияния
- 2) изолированностью, отсутствием каких-либо контактов с культурой других народов
- 3) расцветом национальной лирической поэзии
- 4) освобождением искусства и литературы от церковного влияния

А3. Создание какого памятника литературы относится к концу XIV — началу XV в.?

- 1) «Слово о Законе и Благодати»
- 2) «Поучение детям» Владимира Мономаха
- 3) «Задонщина»
- 4) «Слово о полку Игореве»

- A4.** Афанасий Никитин первым из русских в XV в. совершил путешествие в
- 1) Индию 2) Китай 3) Англию 4) Америку
- A5.** Для публицистики И.С. Пересветова была характерна идея о необходимости
- 1) опоры власти на простой народ — крестьянство и посадских людей
2) сохранения удельных порядков
3) восстановления вечевых традиций в Русском государстве
4) укрепления самодержавной власти
- A6.** Какому сюжету посвящена поэма «Задонщина»?
- 1) борьбе древнерусских князей против половцев
2) походу Ивана IV на Казань
3) междоусобице в Московском княжестве второй четверти XV в.
4) Куликовской битве

Часть В

- B1**.** Установите соответствие между произведениями русской культуры и временем их создания: к каждому элементу первого столбца подберите соответствующий элемент из второго столбца.

ПРОИЗВЕДЕНИЯ

- А)** «Четьи Минеи»
Б) «Хождение за три моря»
В) «Слово о полку Игореве»

ВЕКА

- 1) XII в.
2) XIV в.
3) XV в.
4) XVI в.

Запишите выбранные цифры под соответствующими буквами.

А	Б	В

Тест 27–28. Архитектура и живопись в XIV–XVI веках. Быт XV–XVI веков

ВАРИАНТ 1

Часть А

- A1.** К XV в. относится творчество зодчего
- 1) Василия Баженова 3) Аристотеля Фиораванти
2) Осипа Бове 4) Матвея Казакова
- A2.** Икона «Троица» для главного собора Троице-Сергиева монастыря была написана иконописцем
- 1) Андреем Рублёвым 3) Дионисием
2) Феофаном Греком 4) Даниилом Чёрным
- A3.** Какое новшество в русской архитектуре XV–XVI вв. было связано с итальянскими зодчими?
- 1) использование при строительстве кирпича
2) строительство пятиглавых храмов
3) использование сусального золота для покрытия куполов храмов
4) использование штукатурки при отделке стен
- A4.** Как называлась короткая овчинная шуба — основной предмет верхней зимней одежды русского простонародья вплоть до XIX в.?
- 1) ферязь 2) тулуп 3) кушак 4) душегрея
- A5.** Рассмотрите изображение и выполните задание.



Ярким образцом школы зодчества XIV в. какого русского центра является изображённый памятник архитектуры?

- 1) Москвы 3) Владимира
2) Твери 4) Новгорода

А6. Что характеризовало русский город XVI в.?

- 1) мощение городских улиц камнем
- 2) правильная (регулярная) планировка города
- 3) большинство строений были деревянными
- 4) отсутствие деления города на районы проживания разных социальных или профессиональных групп

Часть В

В1. Расположите деятелей культуры в хронологическом порядке их жизни и творчества. Укажите ответ в виде последовательности цифр выбранных элементов.

- 1) Андрей Рублёв
- 2) митрополит Иларион
- 3) Дионисий
- 4) Нестор

--	--	--	--

В2. Какие из перечисленных московских памятников архитектуры были построены в XVI в.? Найдите в приведённом ниже списке два названия и запишите цифры, под которыми они указаны.

- 1) церковь Спаса на Бору
- 2) церковь Вознесения в Коломенском
- 3) Успенский собор Московского Кремля
- 4) Грановитая палата
- 5) собор Василия Блаженного

--	--

ВАРИАНТ 2

Часть А

А1. Постройка краснокирпичного Кремля относится к правлению

- 1) Дмитрия Донского
- 2) Ивана Калиты
- 3) Ивана III
- 4) Ивана IV

А2. Кто из перечисленных деятелей культуры был иконописцем?

- 1) Иван Фёдоров
- 2) Феофан Грек
- 3) отец Сильвестр
- 4) Сафоний Рязанец

А3. В каком архитектурном стиле выстроена церковь Вознесения в селе Коломенском?

- 1) шатровом
- 2) ампир
- 3) нарышкинское барокко
- 4) классицизм

- A4.** Какой из перечисленных предметов интерьера было практически невозможно найти в русской избе XVI в.?
 1) полку 2) лавку 3) стул 4) стол
- A5.** Какой предмет одежды или обуви русской знати изготовлялся из сафьяна?
 1) сарафан 2) сапоги 3) летник 4) кафтан
- A6.** Рассмотрите изображение и выполните задание.



По заказу московского государя данный памятник архитектуры был сооружён зодчими из

- 1) Франции 2) Новгорода 3) Византии 4) Италии

Часть В

- B1.** Расположите архитектурные памятники в хронологическом порядке. Укажите ответ в виде последовательности цифр выбранных элементов.
 1) Успенский собор во Владимире
 2) Софийский собор в Новгороде
 3) Архангельский собор в Москве
 4) собор Василия Блаженного в Москве

--	--	--	--

- B2.** Какие из перечисленных деятелей культуры жили и творили в XIV–XVI вв.? Найдите в приведённом ниже списке два имени и запишите цифры, под которыми они указаны.
 1) Андрей Рублёв 4) Дионисий
 2) Василий Баженов 5) Нестор
 3) Симон Ушаков

--	--

- A7.** А. Адашев, А. Курбский, митрополит Макарий — это современники
- | | |
|-----------------|---------------------|
| 1) Ивана Калиты | 3) Дмитрия Донского |
| 2) Ивана III | 4) Ивана Грозного |
- A8.** Отмена кормлений относится к правлению
- | | |
|--------------|---------------------|
| 1) Ивана III | 3) Василия III |
| 2) Ивана IV | 4) Фёдора Ивановича |
- A9.** Присоединение Твери к Московскому государству относится к правлению
- | | |
|--------------|----------------|
| 1) Василия I | 3) Василия III |
| 2) Ивана III | 4) Ивана IV |
- A10.** Какой из памятников древнерусской литературы относится к XII в.?
- 1) «Слово о полку Игореве»
 - 2) «Задонщина»
 - 3) «Сказание о Мамаевом побоище»
 - 4) «Повесть о разорении Рязани Батыем»
- A11.** Что было одной из причин поражения Русского государства в Ливонской войне?
- 1) русское войско значительно уступало польскому в численности
 - 2) необходимость одновременно бороться на юге с Крымским ханством
 - 3) отсутствие огнестрельного оружия у русских
 - 4) выступление Казанского ханства на стороне Ливонского ордена
- A12.** Прочтите отрывок из средневековой русской повести и укажите дату описываемого в нём события.
- «Божьим гневом, из-за грехов наших, пленил землю Русскую хан Тохтамыш. Послал слуг своих в город Булгар, что на Волге, и повелел русских гостей грабить и суда их с товаром отымать... И пошёл на великого князя Дмитрия Ивановича своим злохитрием... А князь Олег Рязанский, встретив царя Тохтамыша... рассказал, как пленить и как без труда взять каменной град Москву...»
- | | | | |
|------------|------------|------------|------------|
| 1) 1238 г. | 2) 1327 г. | 3) 1382 г. | 4) 1480 г. |
|------------|------------|------------|------------|
- A13.** К какому веку относится творчество зодчего Аристотеля Фиораванти?
- | | | | |
|-----------|------------|-----------|----------|
| 1) XII в. | 2) XIII в. | 3) XIV в. | 4) XV в. |
|-----------|------------|-----------|----------|


A14. Рассмотрите схему и выполните задание.



В правление какого московского государя произошли изображённые на схеме события?

- 1) Дмитрия Донского
- 2) Ивана III
- 3) Василия III
- 4) Ивана IV

A15. Рассмотрите изображение и выполните задание.



Какой памятник архитектуры изображён на иллюстрации?

- 1) церковь Спаса на Нередице
- 2) Успенский собор во Владимире
- 3) церковь Вознесения в селе Коломенском
- 4) Архангельский собор Московского Кремля

Часть В

B1. Расположите имена правителей Древней Руси в хронологическом порядке. Укажите ответ в виде последовательности цифр выбранных элементов.

- 1) Владимир Мономах
- 2) Олег Вещий
- 3) Ярослав Мудрый
- 4) Юрий Долгорукий

--	--	--	--

В2. Запишите термин, о котором идёт речь.

Первый письменный свод законов Древнерусского государства, разработанный при Ярославе Мудром и его сыновьях.

Ответ: _____.

В3.** Установите соответствие между именами митрополитов Русской православной церкви и их деятельностью: к каждому элементу первого столбца подберите соответствующий элемент из второго столбца.

ИМЕНА

ДЕЯТЕЛЬНОСТЬ

А) митрополит
Пётр

1) осудил опричный террор, за что был подвергнут гонениям и впоследствии убит

Б) митрополит
Алексей

2) первый митрополит, избранный церковным собором, а не назначенный константинопольским патриархом

В) митрополит
Филипп

3) первый митрополит, переехавший жить в Москву, друг Ивана Калиты

4) руководитель московского правительства в период малолетства Дмитрия Донского

Запишите выбранные цифры под соответствующими буквами.

А	Б	В

В4. Какие из перечисленных понятий относятся к системе управления Русским государством XVI в.? Найдите в приведённом ниже списке два названия и запишите цифры, под которыми они указаны.

- 1) коллегии
- 2) Земский собор
- 3) вече
- 4) приказы
- 5) губернаторы

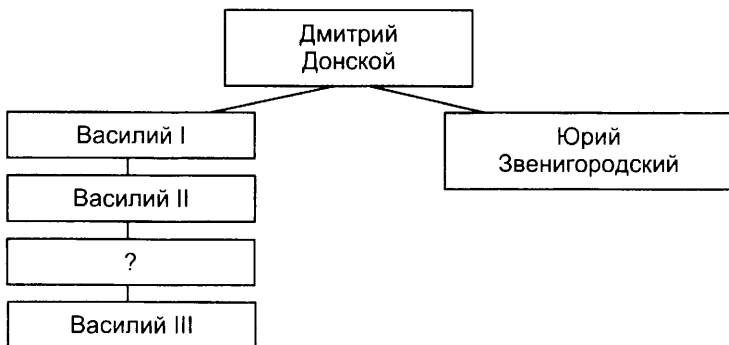
--	--

В5. Ниже перечислены термины, относящиеся к формам зависимости Руси от Орды. Найдите и запишите порядковый номер, под которым указан термин, не относящийся к ним.

- 1) выход; 2) численник; 3) баскаки; 4) ярлык; 5) губные старосты.

Ответ: _____.

В6. Запишите имя правителя, пропущенное в схеме.



Ответ: _____.

Часть С

С1. Составьте план ответа на вопрос «Борьба Руси с западными завоевателями». В плане должно быть не менее трёх пунктов.

ВАРИАНТ 2

Часть А

А1. Отмена полюдья и введение системы погостов связано с деятельностью

- | | |
|---------------------|-------------------|
| 1) князя Святослава | 3) князя Олега |
| 2) княгини Ольги | 4) князя Ярослава |

А2. Высшая родовитая знать на Руси, владевшая передаваемыми по наследству вотчинами, называлась

- | | |
|-------------|-----------|
| 1) рядовичи | 3) бояре |
| 2) дворяне | 4) мещане |

- A3.** Принятие Русью христианства произошло вследствие
- 1) крестовых походов немецких рыцарей
 - 2) решения великого князя киевского
 - 3) договора с папой римским
 - 4) решения вечевых собраний в Новгороде и Киеве
- A4.** Любечский съезд князей, на котором было принято решение: «Каждый да держит отчину свою», относится к
- 1) X в.
 - 2) XI в.
 - 3) XII в.
 - 4) XIII в.
- A5.** Какое из перечисленных событий относится к 1410 г.?
- 1) падение Константинополя под ударами турок
 - 2) Куликовская битва
 - 3) набег хана Тохтамыша на Москву
 - 4) Грюнвальдская битва
- A6.** Появление какого понятия связано с царствованием Ивана IV?
- 1) рекруты
 - 2) баскаки
 - 3) опричники
 - 4) бояре
- A7.** Какое сражение закончилось гибелью русских князей, раздавленных монголами во время их победного пира?
- 1) битва на реке Калке
 - 2) Куликовская битва
 - 3) битва на реке Сити
 - 4) сражение на реке Воже
- A8.** Какой из перечисленных терминов использовался в Судебнике 1497 г.?
- 1) подушная подать
 - 2) рекрут
 - 3) пожилое
 - 4) закуп
- A9.** Прочтите отрывок из сочинения историка В. Янина и укажите, о каком художнике идёт речь.
- «Нет в XV веке более звонкого имени. Перечень сохранившихся работ величайшего русского художника средневековья невелик..., но даже части сохранившегося, даже одной-единственной неповторимой Троицы было бы достаточно для бессмертия его имени...»
- 1) Феофане Греке
 - 2) Андрее Рублёве
 - 3) Дионисию
 - 4) Симоне Ушакове
- A10.** В каком веке была выстроена церковь Вознесения в селе Коломенском — одна из первых каменных шатровых церквей?
- 1) XII в.
 - 2) XIV в.
 - 3) XVI в.
 - 4) XVII в.

A11. Созыв первого Земского собора произошёл в правление

- | | |
|----------------|---------------------|
| 1) Ивана III | 3) Ивана IV |
| 2) Василия III | 4) Фёдора Ивановича |

A12. При каком князе были выстроены Софийские соборы в Киеве и Новгороде?

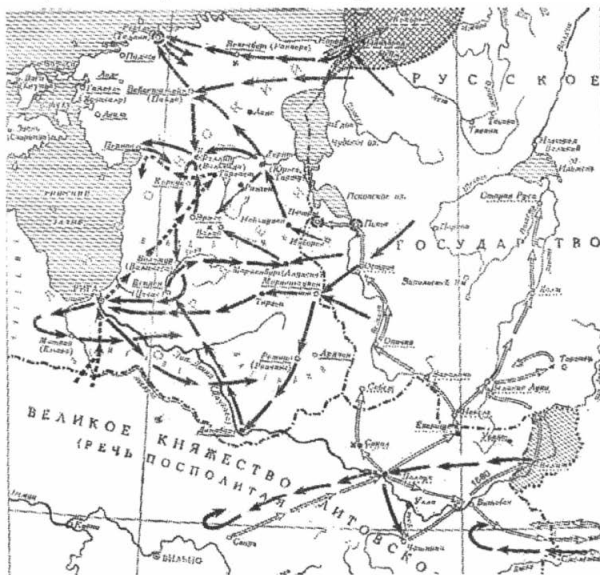
- | | |
|-----------------------|----------------------|
| 1) Владимире Мономахе | 3) Ярославе Мудром |
| 2) Олеге Вещем | 4) Владимире Святном |

A13. Прочтите отрывок из летописной повести и укажите имя князя, о котором в нём говорится.

«Соединившись со всеми князьями русскими и со всею силою, пошёл он против Мамая скоро из Москвы, намереваясь оборонять свою отчину, и пришёл в Коломну, и собрал воинов своих 150 тысяч, кроме войска княжеского и воевод местных. От начала мира не бывало такой силы русских князей, как при этом князе».

- | | |
|--------------------|-----------------------|
| 1) Юрий Долгорукий | 3) Иван Калита |
| 2) Дмитрий Донской | 4) Андрей Боголюбский |

A14. Рассмотрите схему и выполните задание.



В каком году началась война, изображённая на схеме?

- | | | | |
|------------|------------|------------|------------|
| 1) 1425 г. | 2) 1480 г. | 3) 1503 г. | 4) 1558 г. |
|------------|------------|------------|------------|

A15. Рассмотрите изображение и выполните задание.



Какой памятник архитектуры изображён на иллюстрации?

- 1) собор Святой Софии в Киеве
- 2) Дмитриевский собор во Владимире
- 3) церковь Покрова Богородицы на Нерли
- 4) Успенский собор Московского Кремля

Часть B

B1. Расположите следующие исторические события в хронологическом порядке. Укажите ответ в виде последовательности цифр выбранных элементов.

- 1) Куликовская битва
- 2) образование Ливонского ордена
- 3) битва на реке Шелони
- 4) Ледовое побоище

--	--	--	--

B2. Запишите термин, о котором идёт речь.

Система сбора дани, при которой киевский князь раз в год вместе с дружиной ездил по подвластным племенам, кормился за их счёт и собирал дань.

Ответ: _____.

B3.** Установите соответствие между именами князей и временем их правления: к каждому элементу первого столбца подберите соответствующий элемент из второго столбца.

- | | |
|----------------------------|------------------|
| КНЯЗЬЯ | ВЕКА |
| А) Василий Тёмный | 1) XII в. |
| Б) Владимир Мономах | 2) XIV в. |
| В) Дмитрий Донской | 3) XV в. |
| | 4) XVI в. |

Запишите выбранные цифры под соответствующими буквами.

А	Б	В

В4. Какие из перечисленных черт характеризовали русскую культуру XIV–XV вв.? Найдите в приведённом ниже списке две черты и запишите цифры, под которыми они указаны.

- 1) постепенное освобождение от византийских канонов в искусстве
- 2) распространение книгопечатания
- 3) освобождение искусства и литературы от влияния церкви
- 4) большое внимание в литературе к идеям объединения русских земель и укрепления великокняжеской власти
- 5) большое влияние культуры Франции

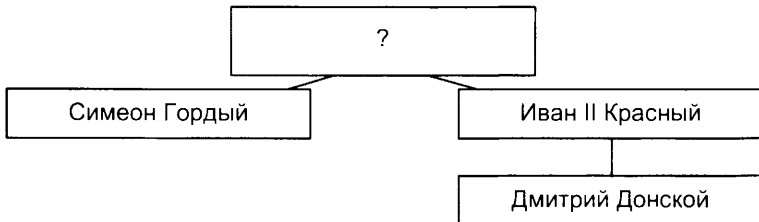
--	--

В5. Ниже перечислены термины, появление которых относится к царствованию Ивана IV. Найдите и запишите порядковый номер, под которым указан термин, не относящийся к ним.

- 1) кормление; 2) стрельцы; 3) Избранная рада; 4) опричнина; 5) «Стоглав».

Ответ: _____.

В6. Запишите имя князя, пропущенное в схеме.



Ответ: _____.

Часть С

С1. Составьте план ответа на вопрос «Образование Древнерусского государства». В плане должно быть не менее трёх пунктов.

ОТВЕТЫ

О системе оценивания см. Предисловие.

Тест 1. Древнейшие народы на территории России

	A1	A2	A3	A4	A5	B1	B2	B3
Вариант 1	2	1	3	4	4	племя	4231	35
Вариант 2	3	4	3	1	2	ремесло	2341	13

Тест 2. Восточные славяне

	A1	A2	A3	A4	A5	B1	B2	B3
Вариант 1	1	2	4	4	2	переложная	5	14
Вариант 2	1	3	3	4	3	вече	4	24

Тест 3. Формирование Древнерусского государства

	A1	A2	A3	A4	B1	B2	B3
Вариант 1	2	2	1	3	язычник	23	214
Вариант 2	4	3	4	3	дань	13	243

Тест 4. Первые киевские князья

	A1	A2	A3	A4	A5	A6	A7	B1
Вариант 1	2	2	4	4	1	2	3	2134
Вариант 2	2	4	4	3	1	4	3	3241

Тест 5. Владимир Святославич. Принятие христианства

	A1	A2	A3	A4	B1	B2	B3
Вариант 1	2	1	4	3	урок	341	13
Вариант 2	3	2	1	2	реформа	432	24

Тест 6. Расцвет Древнерусского государства при Ярославе Мудром

	A1	A2	A3	A4	A5	B1	B2	B3
Вариант 1	3	2	3	4	3	Анна	3	13
Вариант 2	4	1	1	3	2	Владимир	4	25

Тест 7–8. Культура Древней Руси. Быт и нравы Древней Руси

	A1	A2	A3	A4	A5	A6	A7	B1
Вариант 1	1	1	1	2	3	2	3	летописи
Вариант 2	4	2	3	4	2	3	3	былины

Тест 9. Начало раздробления Древнерусского государства

	A1	A2	A3	A4	A5	A6	B1**
Вариант 1	4	1	3	1	2	2	431
Вариант 2	3	3	4	2	4	3	241

Тест 10–11. Главные политические центры Руси

	A1	A2	A3	A4	A5	B1**	B2**
Вариант 1	2	3	3	4	4	3412	423
Вариант 2	3	3	2	3	4	2413	421

Тест 12. Нашествие с Востока

	A1	A2	A3	A4	A5	A6	B1	B2
Вариант 1	1	4	3	2	3	4	2134	45
Вариант 2	2	3	2	3	3	1	2413	24

Тест 13. Борьба Руси с западными завоевателями

	A1	A2	A3	A4	A5	A6	B1**
Вариант 1	4	2	3	1	4	4	312
Вариант 2	2	1	2	3	1	2	132

Тест 14–15. Русь и Золотая Орда. Русь и Литва

	A1	A2	A3	A4	A5	A6	B1	B2
Вариант 1	2	3	4	3	3	1	ярлык	Гедимин
Вариант 2	4	1	2	1	3	3	выход	Ярослав

Тест 16. Культура русских земель в XII–XIII веках

	A1	A2	A3	A4	A5	A6	B1**
Вариант 1	3	1	3	3	2	4	432
Вариант 2	2	4	3	4	2	2	342

Тест 17. Предпосылки объединения русских земель.

Усиление Московского княжества

Вариант 1

A1	A2	A3	A4	A5	B1	B2
2	4	3	4	1	Иван Калита	24

С1. Могут быть даны следующие варианты ответа:

- объединение избавляло купцов от необходимости уплачивать множество таможенных пошлин
- объединённое государство могло более эффективно бороться с разбойниками, нападавшими на купеческие караваны
- объединение позволило бы прекратить выплату разорительной для торговли дани Орде

Могут быть даны и другие варианты ответа. Балл проставляется, если дан хотя бы один верный вариант ответа.

Вариант 2

A1	A2	A3	A4	A5	B1	B2
1	2	3	3	4	Тверское	13

С1. Могут быть даны следующие варианты ответа:

- Русская православная церковь поддерживала князей, проводивших объединительную политику

- церковь сохраняла единую организацию, что способствовало объединению
- православная религия духовно объединяла русских людей

Могут быть даны и другие варианты ответа. Балл проставляется, если дан хотя бы один верный вариант ответа.

**Тест 18. Москва — центр борьбы с ордынским владычеством.
Куликовская битва**

Вариант 1

A1	A2	A3	A4	B1**
1	2	1	1	134

C1.** Могут быть названы следующие причины победы русских в Куликовской битве:

- мужество, духовный подъём русских воинов
- полководческие таланты русских воевод, умело использовавших способ засады

Могут быть даны и другие варианты ответа.

2 балла проставляется за две названные причины, 1 балл — за одну, 0 баллов, если верные причины не названы.

Вариант 2

A1	A2	A3	A4	B1**
3	4	3	1	314

C1.** Могут быть названы следующие причины успеха набега Тохтамыша:

- ослабление военных сил Московского княжества в результате потерь на Куликовом поле
- хан Тохтамыш был законным правителем, в отличие от Мамаю, что останавливало многих русских князей от поддержки Москвы в этом конфликте
- коварство противника, обманом захватившего Москву

Могут быть даны и другие варианты ответа.

2 балла проставляется за две названные причины, 1 балл — за одну, 0 баллов, если верные причины не названы.

**Тест 19. Московское княжество и его соседи
в конце XIV — середине XV века**

	A1	A2	A3	A4	A5	A6	A7	B1
Вариант 1	3	1	4	2	4	3	3	Юрий
Вариант 2	3	3	3	4	4	1	2	Ольгерд

Тест 20. Создание единого Русского государства и конец ордынского владычества

	A1	A2	A3	A4	A5	B1**	B2
Вариант 1	2	3	2	2	4	143	3142
Вариант 2	1	4	4	2	3	412	2314

Тест 21. Московское государство в конце XV — начале XVI века

	A1	A2	A3	A4	A5	B1	B2	B3
Вариант 1	4	3	2	4	1	местничество	5	2314
Вариант 2	4	3	3	1	3	кормление	2	3412

Тест 22. Церковь и государство в конце XV — начале XVI века

Вариант 1

A1	A2	A3	A4	B1	B2
4	1	3	4	собор	1423

C1.** Могут быть названы следующие положения, раскрывающие содержание ереси «жидовствующих»:

- отрицание божественной сущности Христа и Троицы
 - выступали против поклонения иконам и крестам
 - критика монахов за их образ жизни
 - отрицание церковной иерархии
 - возможность очищения от грехов только путём чистых помыслов и благих дел
- Могут быть даны и другие варианты ответа.

2 балла проставляется за два приведённых положения, 1 балл — за одно, 0 баллов, если верные положения не приведены.

Вариант 2

A1	A2	A3	A4	B1	B2
3	3	2	4	ересь	3124

C1.** Могут быть названы следующие положения, раскрывающие содержание учения нестяжателей:

- отказ от церковного землевладения и иных церковных богатств
- необходимость аскетического образа жизни для монахов
- независимость церкви от гражданских властей

Могут быть даны и другие варианты ответа.

2 балла проставляется за два приведенных положения, 1 балл — за одно, 0 баллов, если верные положения не приведены.

Тест 23. Реформы Избранной рады

	A1	A2	A3	A4	A5	A6	B1	B2
Вариант 1	1	1	3	4	3	1	Земский собор	1
Вариант 2	4	3	1	4	2	4	приказы	3

Тема 24. Внешняя политика Ивана IV

	A1	A2	A3	A4	A5	B1	B2**
Вариант 1	3	1	2	1	3	4123	413
Вариант 2	2	2	1	1	3	3142	134

Тема 25. Oprичнина

Вариант 1

A1	A2	A3	A4	B1**
2	2	3	4	312

C1.** Могут быть названы следующие причины разрыва Ивана IV с Избранной радой:

- противоречия в области внешней политики
- разные представления царя и членов Избранной рады о характере царской власти

- недовольство царя медленным темпом реформ, проводимых Избранной радой
- неудачные советы А. Адашева в период Ливонской войны
- отказ некоторых членов Избранной рады признать наследником сына Ивана IV в период его болезни в 1553 г.

Могут быть даны и другие варианты ответа.

2 балла проставляется за две приведенных причины, 1 балл — за одну, 0 баллов, если верные причины не приведены.

Вариант 2

A1	A2	A3	A4	B1**
2	3	2	4	431

C1.** Могут быть приведены следующие положения, раскрывающие содержание опричнины:

- предоставление царю права казнить своей волей «изменников», породившее массовые ссылки, казни и насилия
- разделение государства на две части — опричнину и земщину
- введение в опричнине особого царского управления
- передача опричникам земель вотчинников, не вошедших в опричнину

Могут быть даны и другие варианты ответа.

2 балла проставляется за два приведенных положения, 1 балл — за одно, 0 баллов, если верные положения не приведены.

Тест 26. Просвещение, устное народное творчество, литература в XIV–XVI веках

	A1	A2	A3	A4	A5	A6	B1**
Вариант 1	2	4	1	3	3	4	341
Вариант 2	4	1	3	1	4	4	431

Тест 27–28. Архитектура и живопись в XIV–XVI веках. Быт XV–XVI веков

	A1	A2	A3	A4	A5	A6	B1	B2
Вариант 1	3	1	1	2	4	3	2413	25
Вариант 2	3	2	1	3	2	4	2134	14

ИТОГОВЫЕ ВАРИАНТЫ

Вариант 1

A1	4	A12	3
A2	2	A13	4
A3	3	A14	4
A4	2	A15	3
A5	1		
A6	2	B1	2314
A7	4	B2	Русская Правда
A8	2	B3**	341
A9	2	B4	34
A10	1	B5	5
A11	2	B6	Иван Третий

- C1.** План оценивается учителем с точки зрения соответствия пунктов содержанию вопроса, логики их выстраивания, полноты охвата темы. Проставляется 1 балл за успешно выполненное задание.

Вариант 2

A1	2	A12	3
A2	3	A13	2
A3	2	A14	4
A4	2	A15	4
A5	4		
A6	3	B1	2413
A7	1	B2	полюдьё
A8	3	B3**	312
A9	2	B4	14
A10	3	B5	1
A11	3	B6	Иван Калита

- C1.** План оценивается учителем с точки зрения соответствия пунктов содержанию вопроса, логики их выстраивания, полноты охвата темы. Проставляется 1 балл за успешно выполненное задание.