

ОМСКАЯ КАРТОГРАФИЧЕСКАЯ ФАБРИКА

АТЛАС

ОТЕЧЕСТВЕННАЯ ИСТОРИЯ
С ДРЕВНЕЙШИХ ВРЕМЕН ДО КОНЦА XVIII ВЕКА



 ФГОС

с комплектом контурных карт

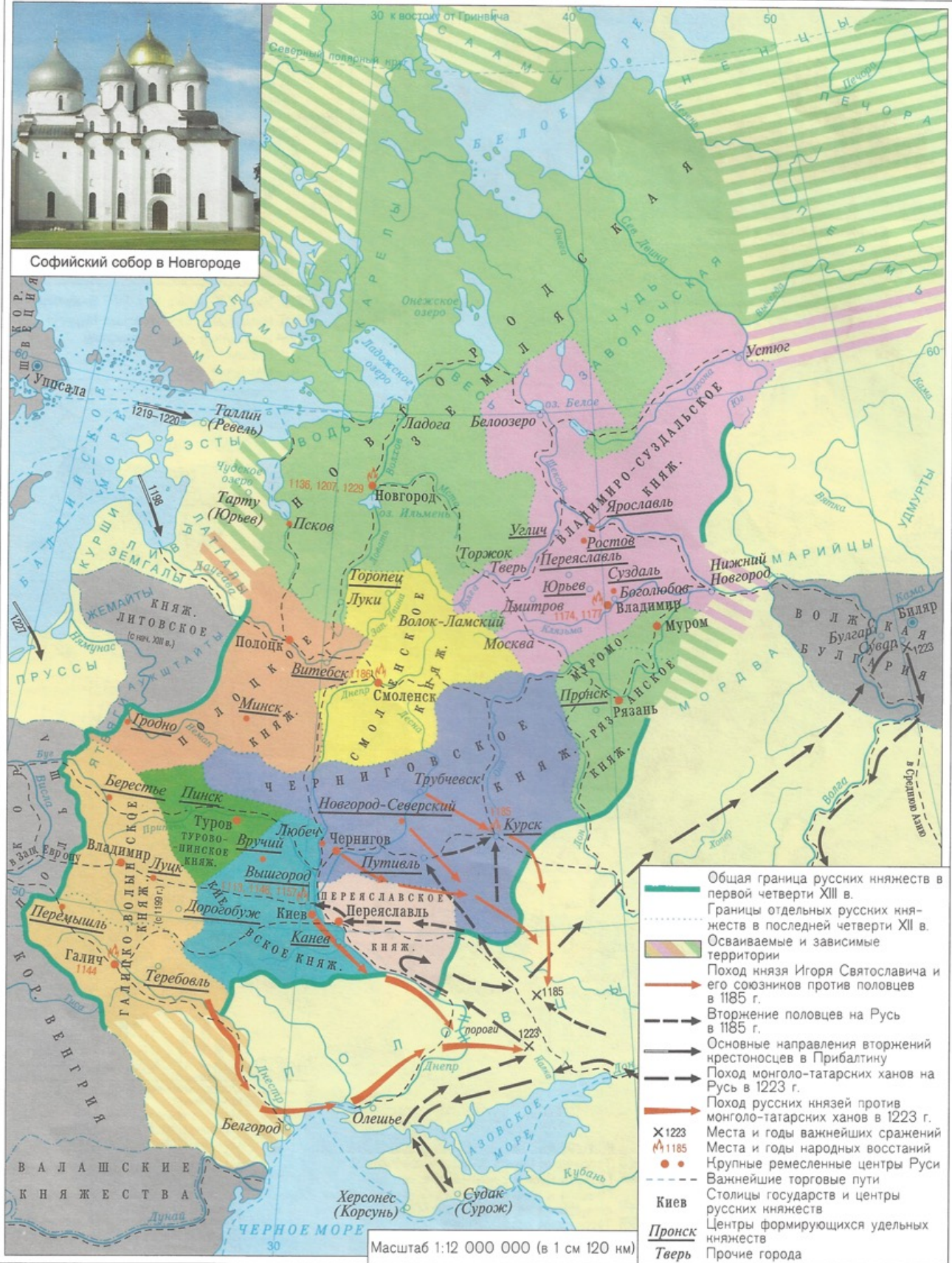
РУСЬ в IX–начале XII в.



РАЗДРОБЛЕННОСТЬ РУСИ в XII—первой четверти XIII в.



Софийский собор в Новгороде



- Общая граница русских княжеств в первой четверти XIII в.
- Границы отдельных русских княжеств в последней четверти XII в.
- Осваиваемые и зависимые территории
- Поход князя Игоря Святославича и его союзников против половцев в 1185 г.
- Вторжение половцев на Русь в 1185 г.
- Основные направления вторжений крестоносцев в Прибалтику
- Поход монголо-татарских ханов на Русь в 1223 г.
- Поход русских князей против монголо-татарских ханов в 1223 г.
- X 1223
- * 1185
- Места и годы важнейших сражений
- Крупные ремесленные центры Руси
- Важнейшие торговые пути
- Столицы государств и центры русских княжеств
- Пронск Центры формирующихся удельных княжеств
- Тверь Прочие города

БОРЬБА НАРОДОВ ЗАКАВКАЗЬЯ И СРЕДНЕЙ АЗИИ ЗА НЕЗАВИСИМОСТЬ в VIII–IX вв.



Территория, завоеванная арабами
 Районы крупнейших народных восстаний против арабских феодалов под руководством Бабена (816–837 гг.)
 в VIII в. Масштаб 1:50 000 000



Арабские завоеватели

ЗАКАВКАЗЬЕ в XI–начале XIII в.



Грузинское царство при Давиде Строителе (1089–1125 гг.)
 Грузинское царство при царице Тамаре (1184–1213 гг.)
 Территории, находившиеся в вассальной зависимости от Грузии при царице Тамаре
 Границы государств, находившихся в сфере влияния Грузии при царице Тамаре

Крупнейшие центры ремесла и торговли
 Торговые пути
 Границы государств даны на начало XIII в.

Масштаб 1:10 000 000 (в 1 см 100 км)

СРЕДНЯЯ АЗИЯ И СОСЕДНИЕ СТРАНЫ в XI–начале XIII в.



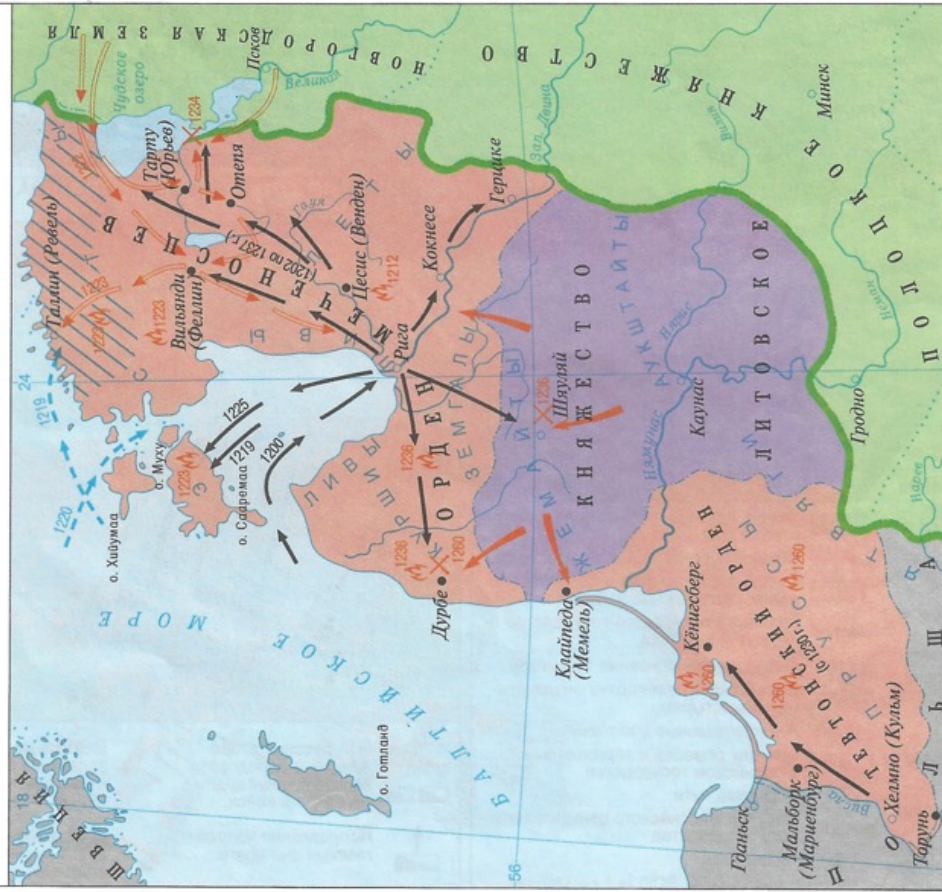
Мавзолей Саманидов в Бухаре

Хорезм в начале XI в.
 Территория государства хорезмшаха Мухаммеда (1200–1220 гг.)
 Крупнейшие восстания народов Средней Азии против иноземных завоевателей (1206)
 Крупнейшие центры ремесла и торговли
 Торговые пути

Границы государств даны на начало XIII в.

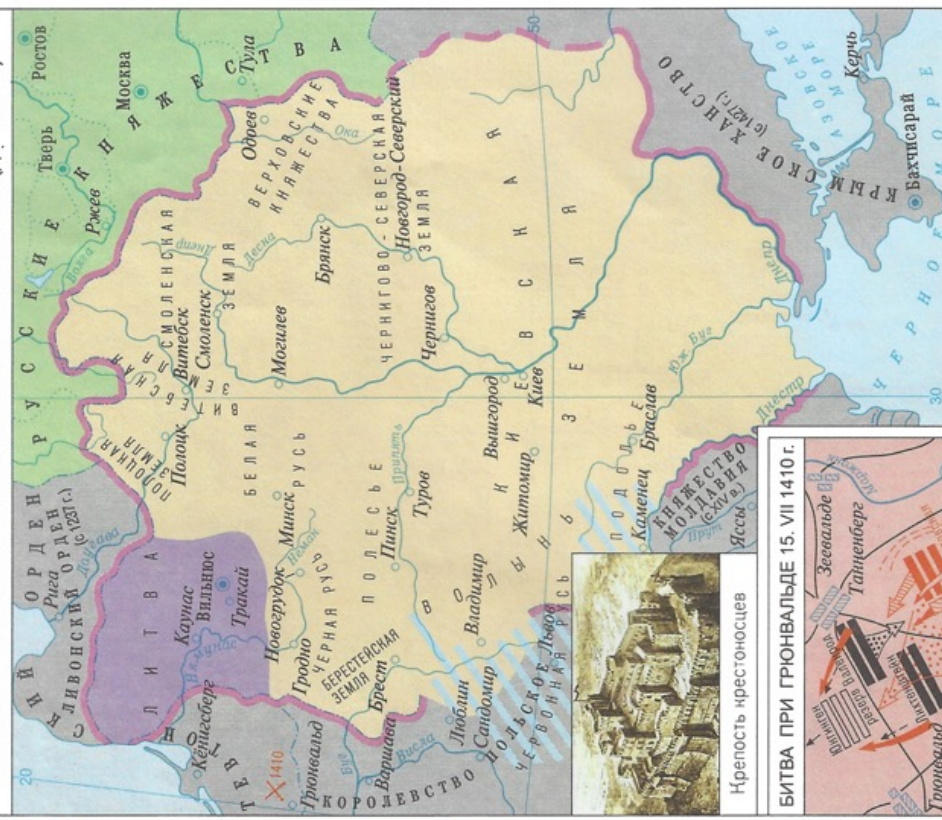
Масштаб 1:20 000 000 (в 1 см 200 км)

ПРИБАЛТИКА в XIII в.



- Западная граница русских княжеств в начале XIII в. (1219 г.)
- Литовские земли, вошедшие в состав Литовского государства, образовавшегося в начале XIII в.
- Прибалтийские земли, захваченные немецкими феодалами в XIII в.
- Территория, отошедшая к Дании по соглашению с Тевтонским орденом в 1238 г.
- Борьба народов Прибалтики против иноземных завоевателей в XIII в.
- Направление походов немецких рыцарей.
- Направление походов датских и шведских феодалов
- Замки, построенные немецкими рыцарями на завоеванной земле
- Походы новгородских князей против иноземных захватчиков
- Отражение литовцами и эстами нападения немецких рыцарей
- Места и годы восстаний народов Прибалтики против немецких завоевателей
- Места и годы важнейших сражений
- Направление походов немецких рыцарей.

ВЕЛИКОЕ КНЯЖЕСТВО ЛИТОВСКОЕ в XIII—XV вв. (до 1462 г.)



- Литовские земли в начале XIII в.
 - Русские, украинские и белорусские земли, захваченные литовскими феодалами в XIII—XV вв.
 - Польские и литовскими феодалами захваченные земли, захваченные в XIV—XV вв.
 - X 1410
 - Битва при Грюнвальде
 - Границы Великого княжества Литовского в 1462 г.
- Масштаб 1:12 000 000 (в 1 см 120 км)

БИТВА ПРИ ГРЮНВАЛЬДЕ 15. VII 1410 г.



Крепость крестоносцев



- Расположение войск:
 - Тевтонского ордена
 - союзников (полянов, литовцев, русских, украинцев, белорусов, татар)
 - Атака союзниками
 - левого фланга крестоносцев
- Отступление и возвращение в бой части войск Битова
- Смоленские поляны
- выдержавшие нападение немцев
- Общее наступление союзников
- Бегство немецких рыцарей
- Бегство немцев
- Коннотатана Валерола

ОБРАЗОВАНИЕ РОССИЙСКОГО ЦЕНТРАЛИЗОВАННОГО ГОСУДАРСТВА



РУСЬ в IX—начале XII в.

20 к востоку от Гринвича 30 40

Задания

1. Надпишите племенные объединения восточных славян на территории их расселения.
2. Закрасьте территорию Среднего Приднепровья – древнего культурного и политического центра восточных славян.
3. Обведите границы Руси к середине XI в.
4. Надпишите известные вам города Руси.
5. Обозначьте стрелками направления походов дружин русских князей.
6. Обозначьте районы и центры народных восстаний. Надпишите их годы.
7. Обозначьте важнейшие торговые пути Руси.



РАЗДРОБЛЕННОСТЬ РУСИ в XII—первой четверти XIII в.



БОРЬБА ПРОТИВ ИНОЗЕМНЫХ ЗАХВАТЧИКОВ В XIII В.

20 к востоку от Гринича

50

40

30

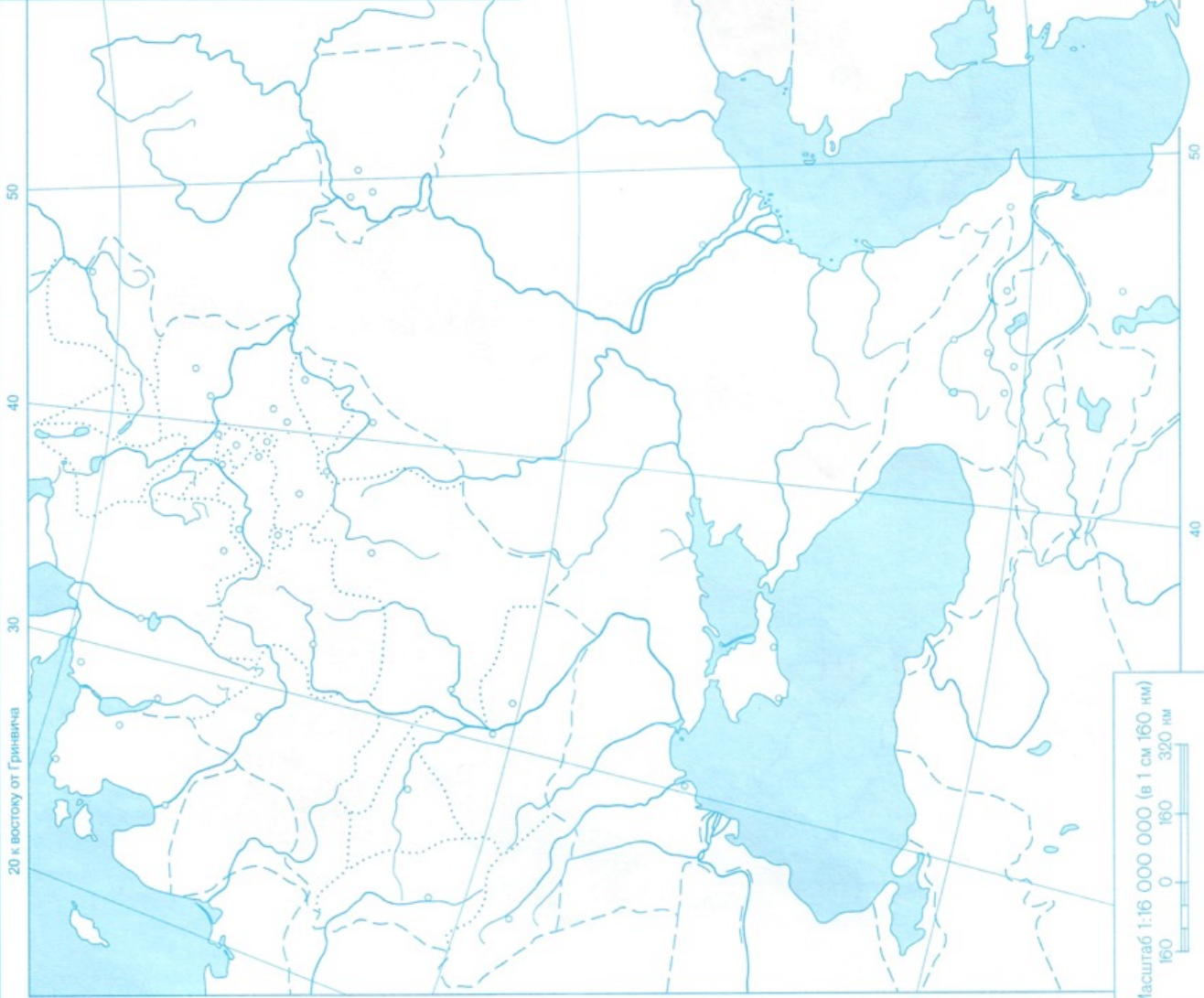
50

40

60

Задания

1. Обозначьте стрелками завоевательные походы Чингисхана и его полководцев на государства Средней Азии и Закавказья. Найдите названия этих государств.
2. Найдите и надпишите место первой встречи русских войск с монголо-татарскими завоевателями.
3. Обозначьте стрелками завоевательные походы хана Батые и его полководцев.
4. Найдите и надпишите города, оказавшие наиболее упорное сопротивление монголо-татарским завоевателям.
5. Заграсьте районы и надпишите годы восстаний против ига монголо-татарских завоевателей.
6. Обозначьте разными стрелками завоевательные походы немецких рыцарей, шведских и датских феодалов.
7. Обозначьте места и надпишите годы важнейших битв со шведскими и немецкими завоевателями.



Масштаб 1:16 000 000 (в 1 см 160 км)
160 0 160 320 км

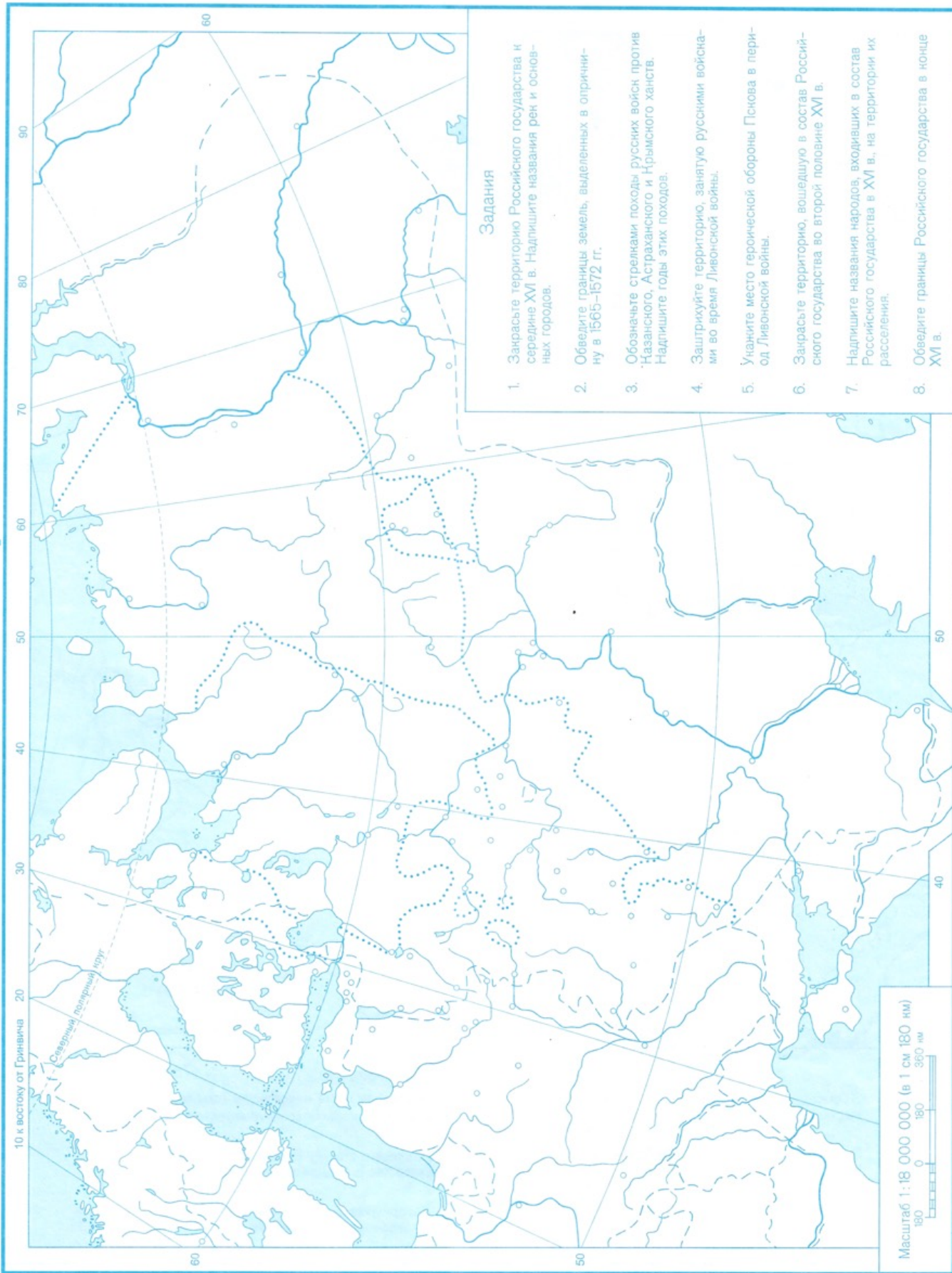
ОБРАЗОВАНИЕ РОССИЙСКОГО ЦЕНТРАЛИЗОВАННОГО ГОСУДАРСТВА



Задания

1. Закрасьте территорию Московского княжества в 1300 г.
2. Закрасьте территорию, присоединенную к Московскому княжеству к 1462 г.
3. Обведите границы Российского государства в первой трети XVI в.
4. Обозначьте места и надпишите годы сражений русских войск с монголо-татарскими захватчиками в XIV–XV вв.
5. Надпишите столицу Российского централизованного государства и известные вам города.
6. Заштрихуйте русские, украинские и белорусские земли, отвоёванные у Великого княжества Литовского к 1533 г.

РОССИЙСКОЕ ГОСУДАРСТВО ВО ВТОРОЙ ПОЛОВИНЕ XVI В.



СМУТНОЕ ВРЕМЯ В РОССИИ в начале XVII в.



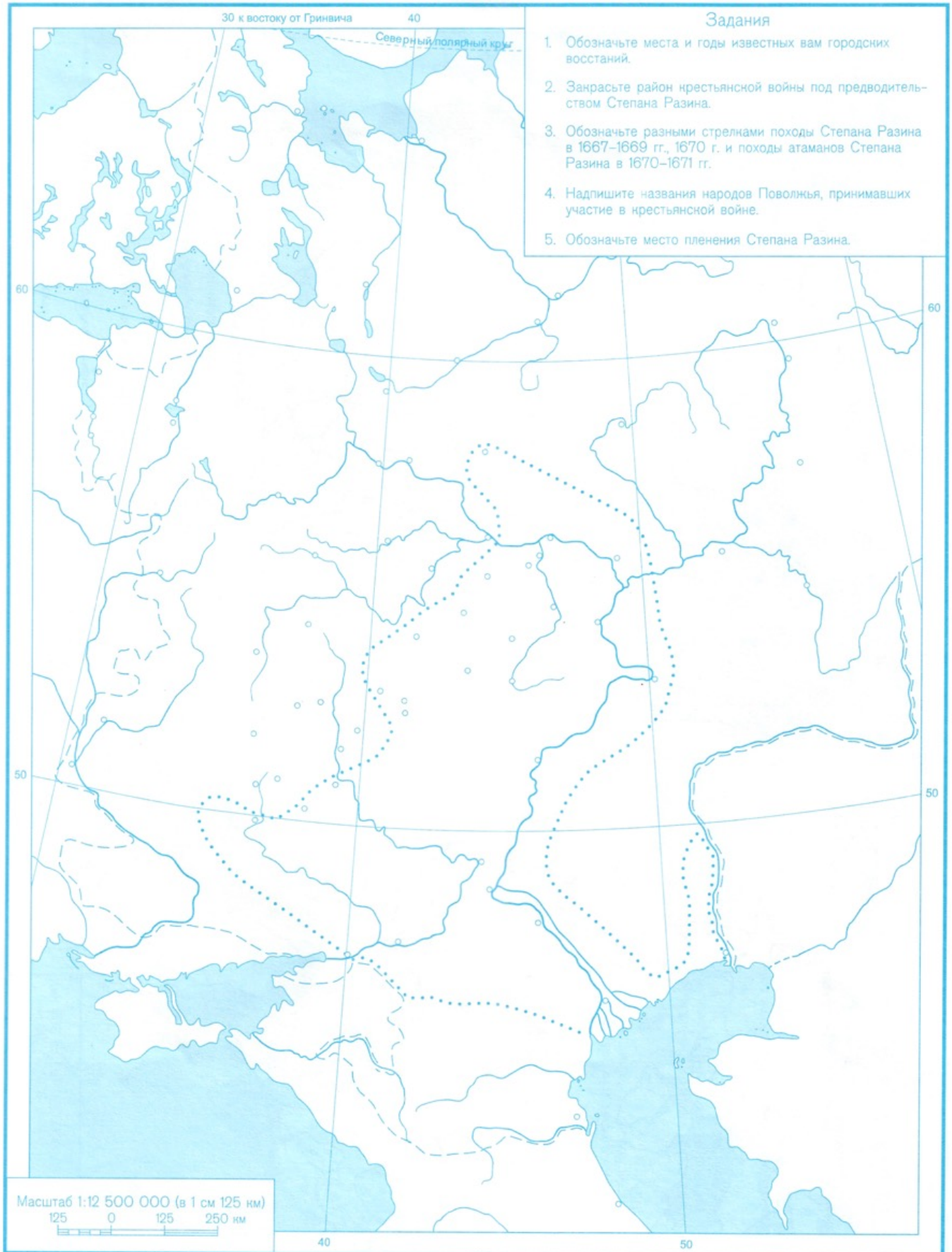
Задания

1. Закрасьте основной район восстания под предводительством Болотникова в 1606–1607 гг.
2. Обозначьте стрелками направление похода главных сил восставших крестьян под предводительством Болотникова на Москву. Надпишите названия городов, через которые они проходили.
3. Обозначьте пунктирными стрелками отход восставших к Калуге и Туле.
4. Подпишите города, участвовавшие в крестьянском восстании.
5. Подпишите народы Поволжья, принимавшие участие в крестьянской войне.
6. Обозначьте стрелками направления походов польских и шведских захватчиков.
7. Обозначьте важнейшие районы партизанской борьбы.
8. Найдите город, который стал центром народного движения против иноземных захватчиков, и надпишите его название.
9. Обозначьте стрелками движение народного ополчения под предводительством К. Минина и Д. Пожарского к Москве.

ЭКОНОМИЧЕСКОЕ РАЗВИТИЕ РОССИИ в XVII в. (Европейская часть)



ВОССТАНИЯ В РОССИИ в 40–70-х годах XVII в.



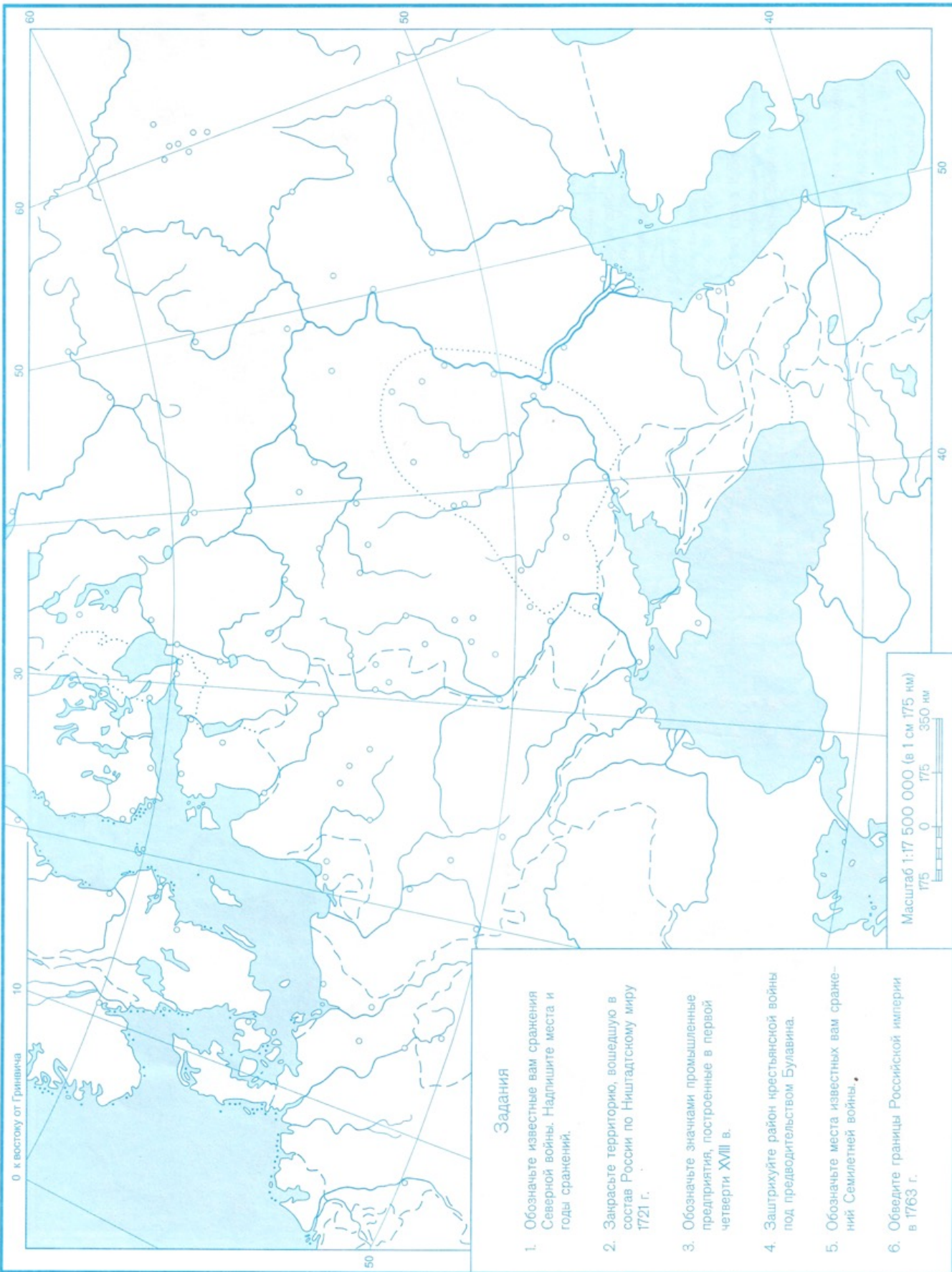
РОСТ ТЕРРИТОРИИ РОССИИ В XVII В. НАРОДЫ СИБИРИ И ДАЛЬНЕГО ВОСТОКА



Задания

1. Надпишите крупнейшие реки Сибири и моря, омывающие территорию Сибири и Дальнего Востока.
2. Надпишите названия известных вам племен и народностей Сибири и Дальнего Востока на территории их расселения.
3. Обведите границы Российского государства в начале XVII в.
4. Обозначьте разными стрелами пути продвижения в Сибирь и на Дальний Восток Пояркова, Попова-Деннёва, Хабарова и других землепроходцев.
5. Надпишите названия известных вам городов Сибири и Дальнего Востока, основанных русскими землепроходцами в XVII в.
6. Закрасьте территории, вошедшие в состав Российского государства в XVII в. (до 1689 г.)

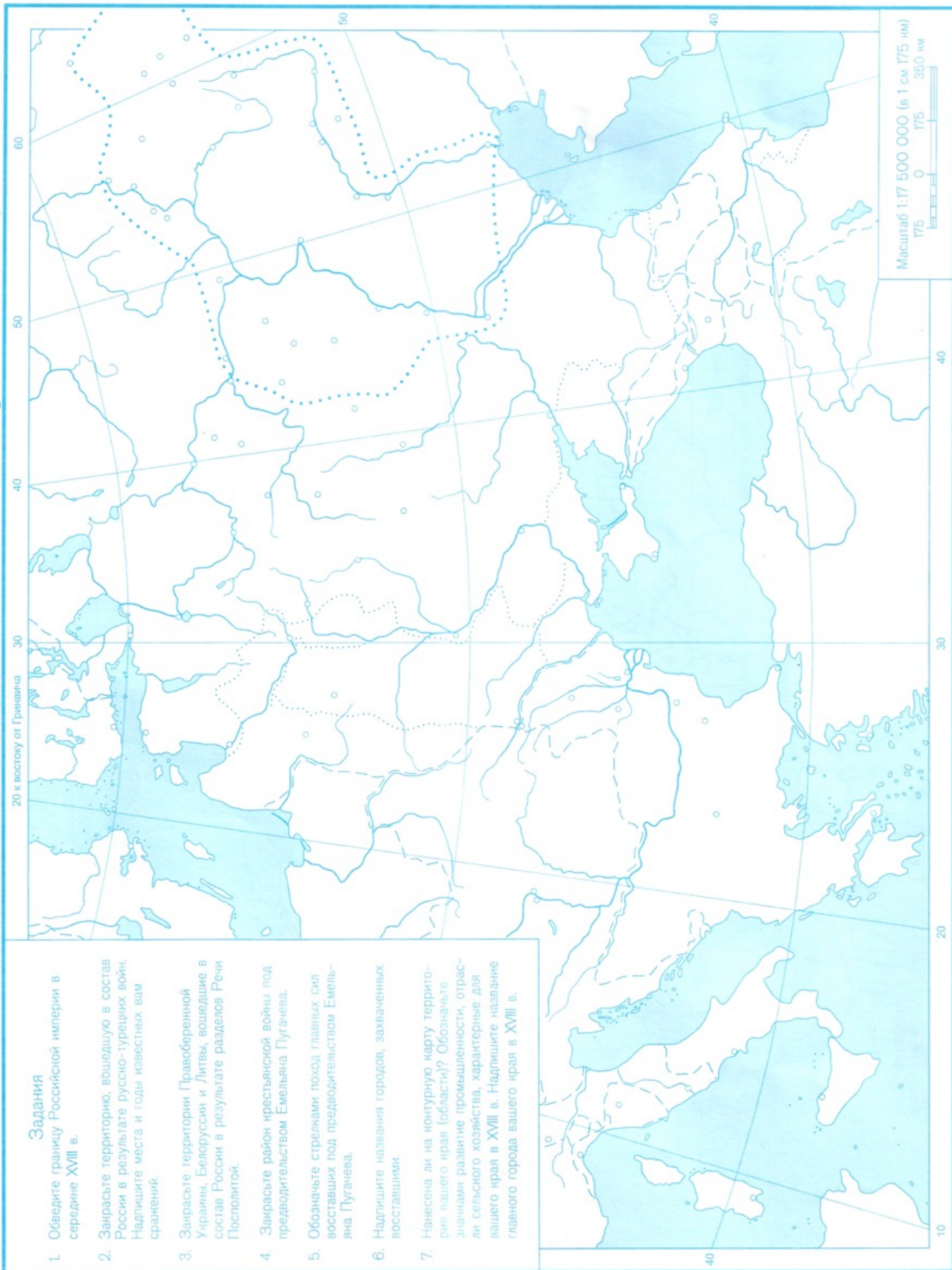
РОССИЯ с конца XVII в. по 60-е годы XVIII в. (Европейская часть)



Задания

1. Обозначьте известные вам сражения Северной войны. Надпишите места и годы сражений.
2. Закрасьте территорию, вошедшую в состав России по Ништадтскому миру 1721 г.
3. Обозначьте значимыми промышленными предприятиями, построенными в первой четверти XVIII в.
4. Заштрихуйте район крестьянской войны под предводительством Булавина.
5. Обозначьте места известных вам сражений Семилетней войны.
6. Обведите границы Российской империи в 1763 г.

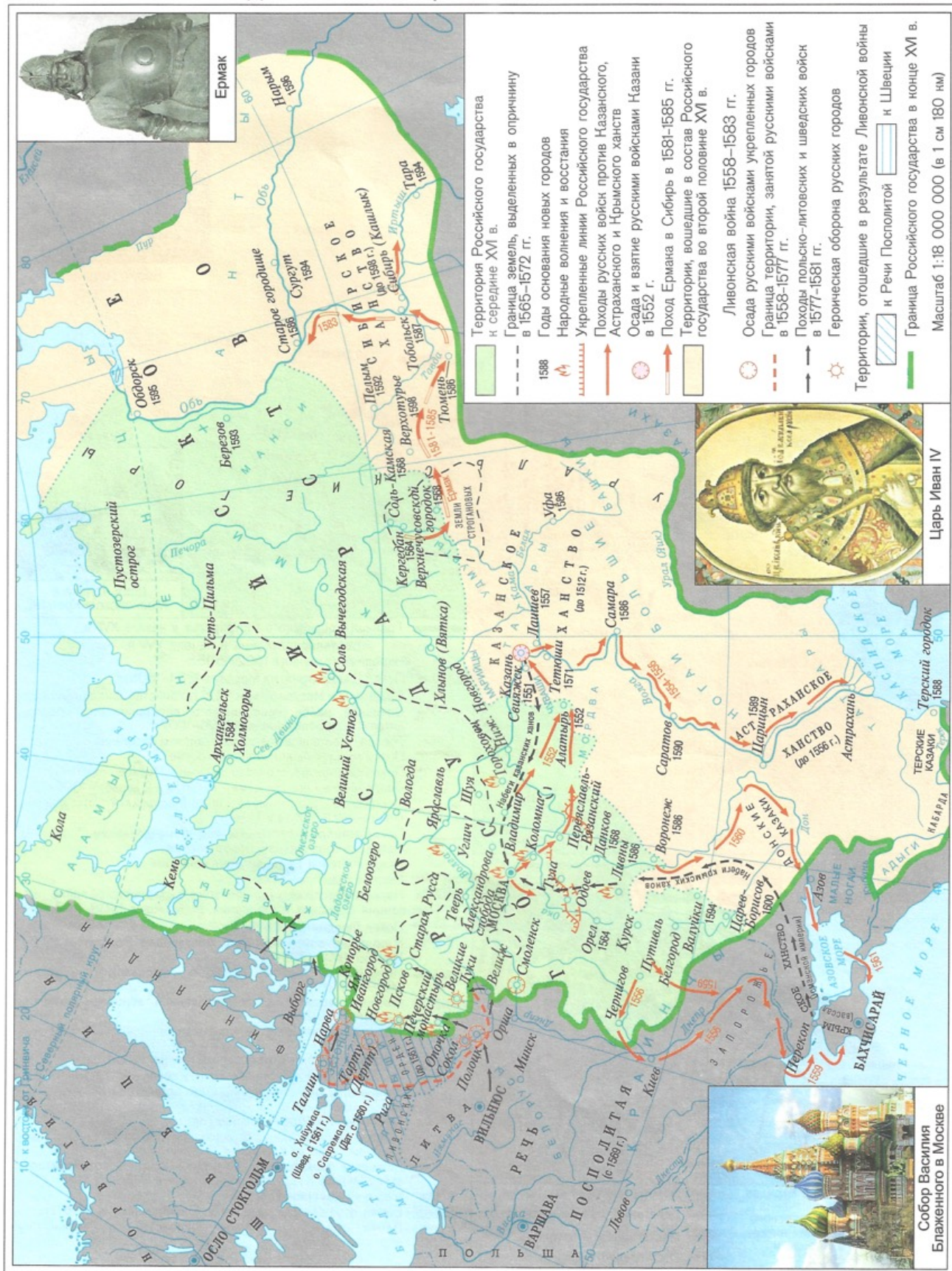
РОССИЙСКАЯ ИМПЕРИЯ во второй половине XVIII в. (Европейская часть)



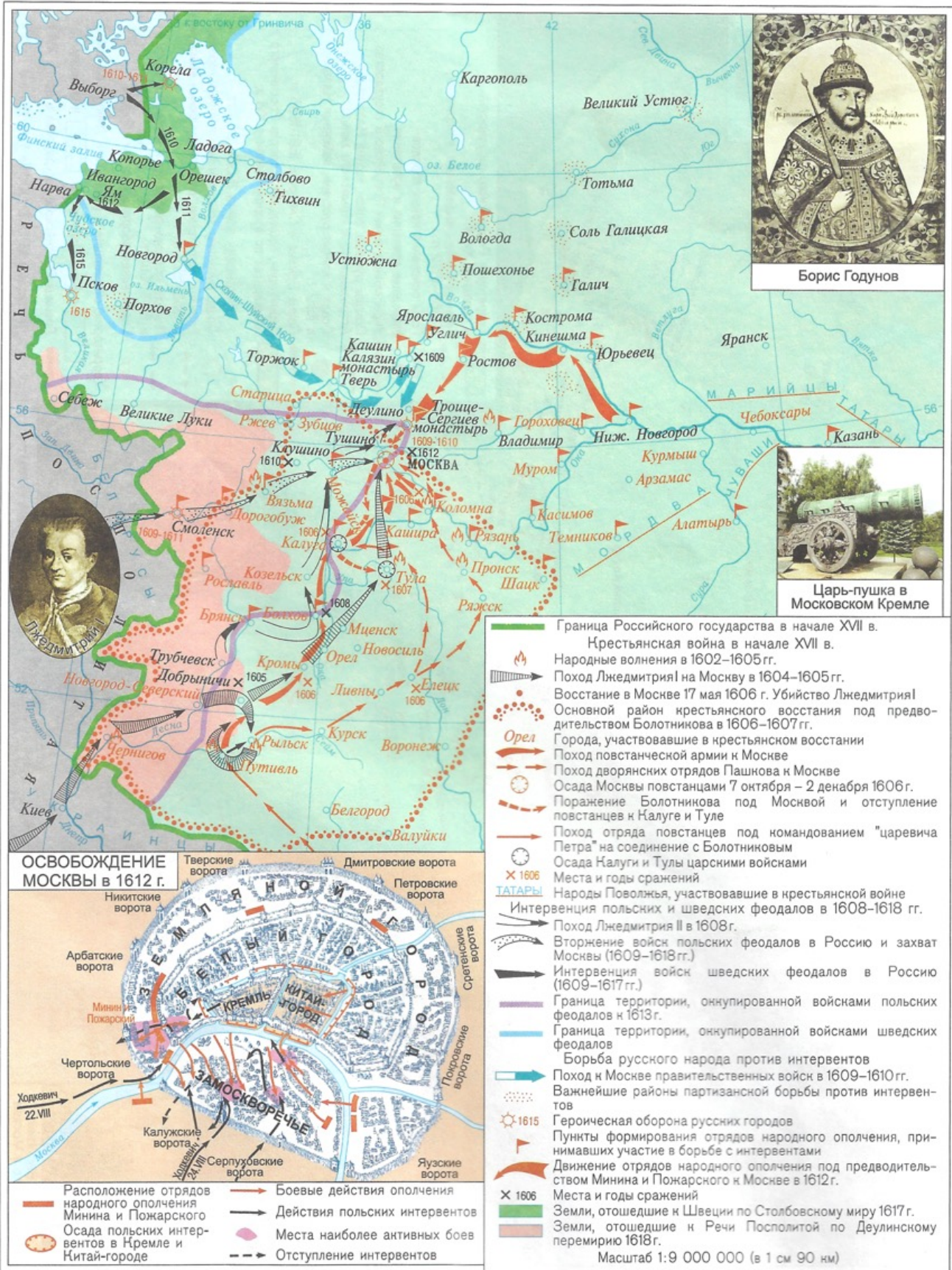
Задания

1. Обведите границу Российской империи в середине XVIII в.
2. Закрасьте территорию, вошедшую в состав России в результате русско-турецких войн. Надпишите места и годы известных вам сражений.
3. Закрасьте территории Правобережной Украины, Белоруссии и Литвы, вошедшие в состав России в результате разделов Речи Посполитой.
4. Закрасьте район крестьянской войны под предводительством Емельяна Пугачева.
5. Обозначьте стрелками поход главных сил восставших под предводительством Емельяна Пугачева.
6. Надпишите названия городов, захваченных восставшими.
7. Нанесена ли на контурную карту территория вашего края (области)? Обозначьте значимыми развитием промышленности, отрасли сельского хозяйства, характерные для вашего края в XVIII в. Надпишите название главного города вашего края в XVIII в.

РОССИЙСКОЕ ГОСУДАРСТВО во второй половине XVI в.



СМУТНОЕ ВРЕМЯ В РОССИИ в начале XVII в.



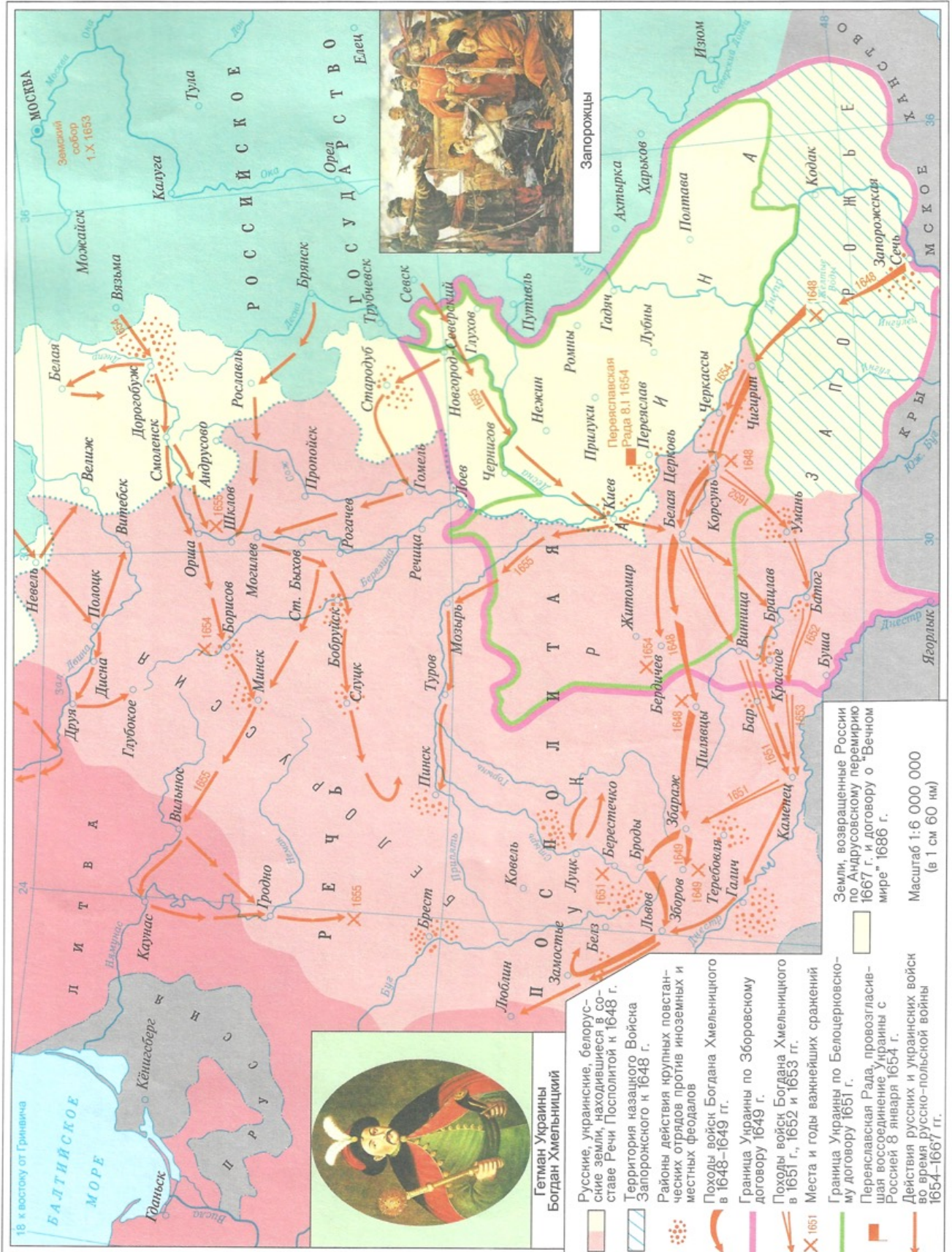
ЭКОНОМИЧЕСКОЕ РАЗВИТИЕ РОССИИ в XVII в. (Европейская часть)



ВОССТАНИЯ В РОССИИ в 40–70-х годах XVII в.



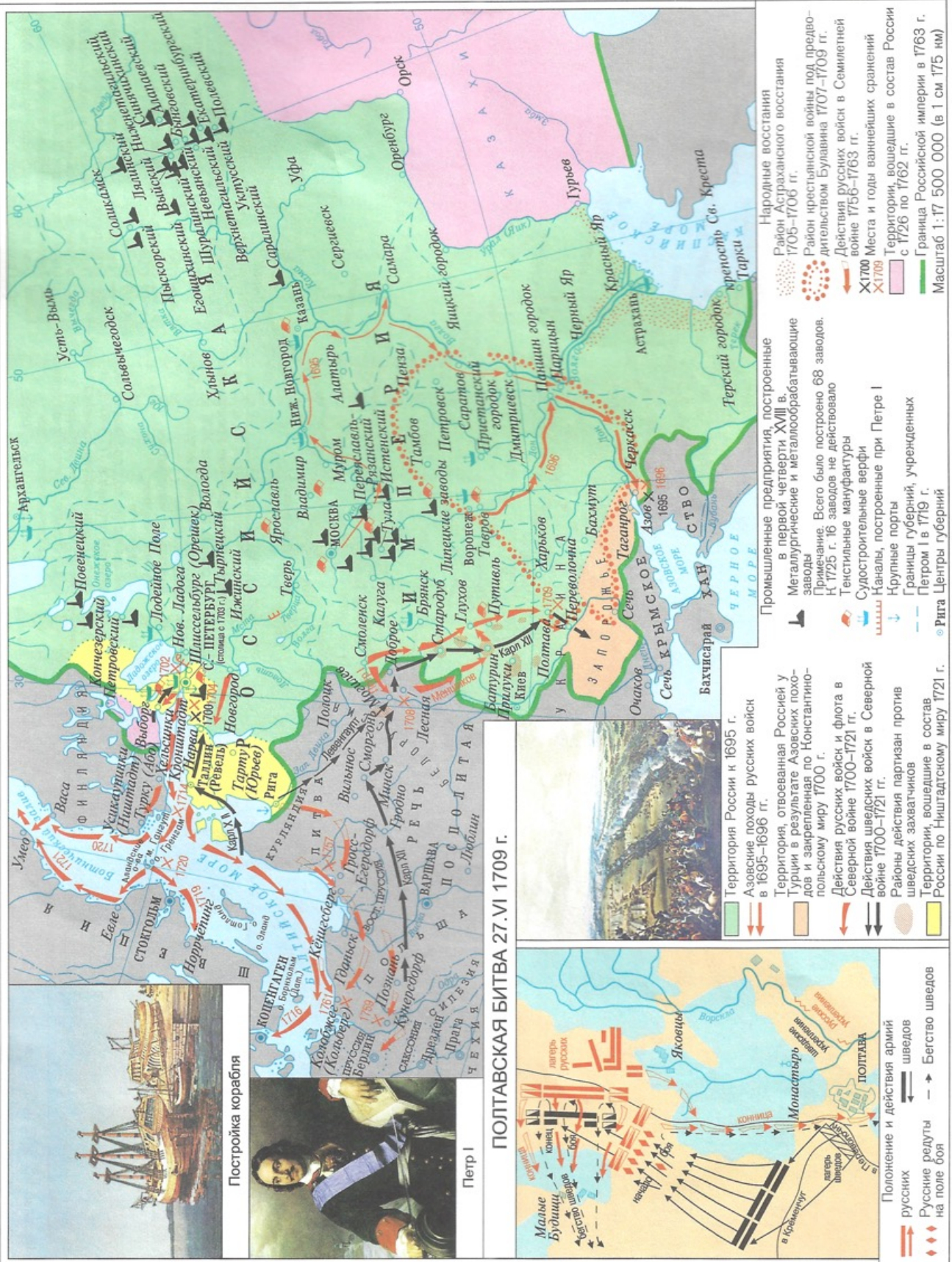
ОСВОБОДИТЕЛЬНАЯ ВОЙНА УКРАИНСКОГО И БЕЛОРУССКОГО НАРОДОВ 1648–1654 гг.



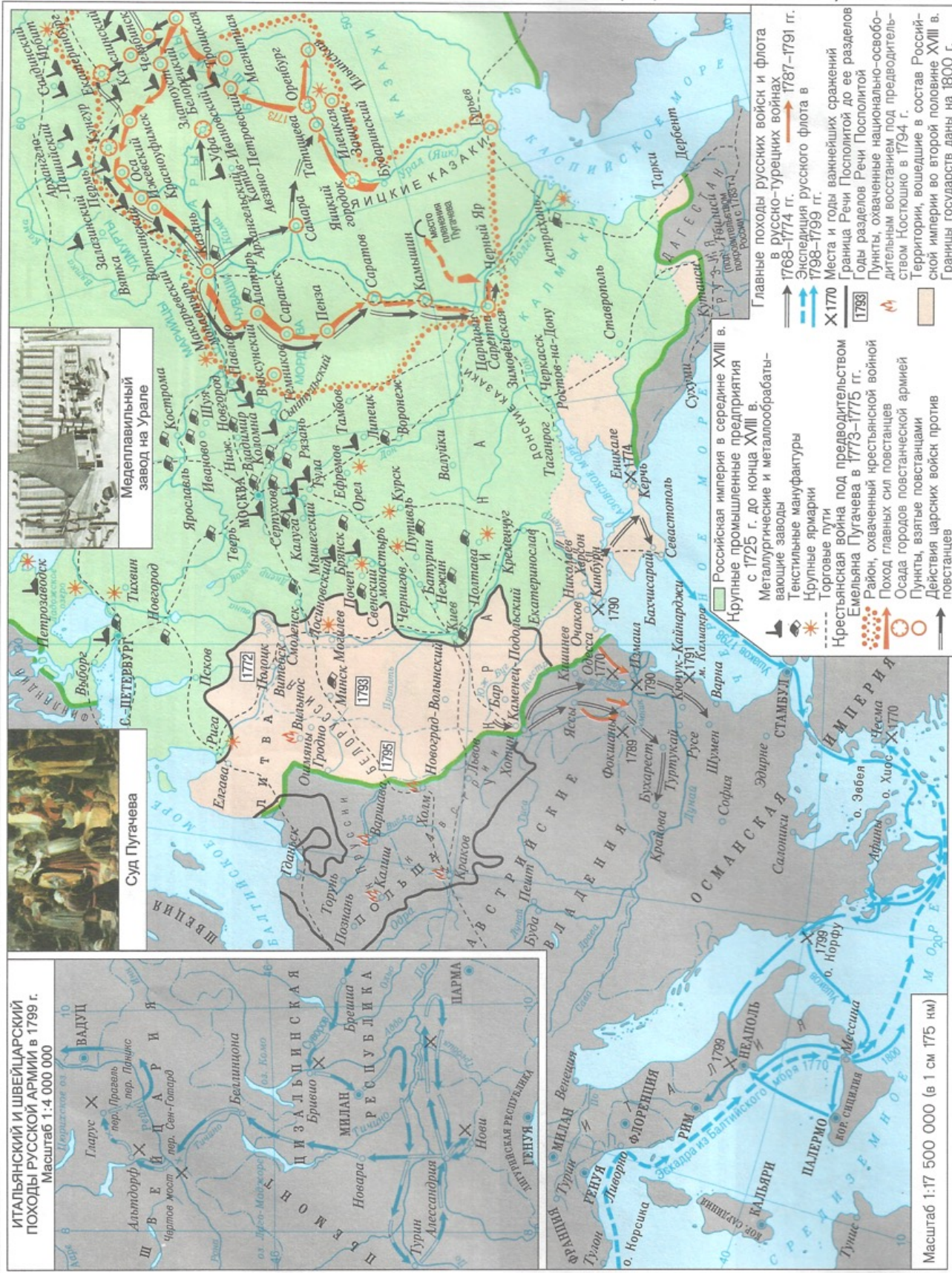
РОСТ ТЕРРИТОРИИ РОССИИ в XVII в. НАРОДЫ СИБИРИ И ДАЛЬНОГО ВОСТОКА



РОССИЯ с конца XVII в. по 60-е годы XVIII в. (Европейская часть)



РОССИЙСКАЯ ИМПЕРИЯ во второй половине XVIII в. (Европейская часть)



О Г Л А В Л Е Н И Е

	страницы
ПЕРВОБЫТНОЕ ОБЩЕСТВО	1
ДРЕВНЕЙШИЕ ГОСУДАРСТВА ЗАКАВКАЗЬЯ, СРЕДНЕЙ АЗИИ И СЕВЕРНОГО ПРИЧЕРНОМОРЬЯ	2
Древние государства Закавказья в конце 1-го тысячелетия до н. э.	
РУСЬ в IX–начале XII в.	3
План древнего Киева	
РАЗДРОБЛЕННОСТЬ РУСИ в XII–первой четверти XIII в.	4
БОРЬБА НАРОДОВ ЗАКАВКАЗЬЯ И СРЕДНЕЙ АЗИИ ЗА НЕЗАВИСИМОСТЬ в VIII–IX вв.	5
ЗАКАВКАЗЬЕ в XI–начале XIII в.	
СРЕДНЯЯ АЗИЯ И СОСЕДНИЕ СТРАНЫ в XI–начале XIII в.	
БОРЬБА ПРОТИВ ИНОЗЕМНЫХ ЗАХВАТЧИКОВ в XIII в.	6
Ледовое побоище 5.IV 1242 г.	
ПРИБАЛТИКА в XIII в.	7
ВЕЛИКОЕ КНЯЖЕСТВО ЛИТОВСКОЕ в XIII–XV вв. (до 1462 г.)	
Битва при Грюнвальде 15.VII 1410 г.	
ОБРАЗОВАНИЕ РОССИЙСКОГО ЦЕНТРАЛИЗОВАННОГО ГОСУДАРСТВА	8
Куликовская битва 8.IX 1380 г.	
РОССИЙСКОЕ ГОСУДАРСТВО во второй половине XVI в.	9
СМУТНОЕ ВРЕМЯ В РОССИИ в начале XVII в.	10
Освобождение Москвы в 1612 г.	
ЭКОНОМИЧЕСКОЕ РАЗВИТИЕ РОССИИ в XVII в. (Европейская часть)	11
ВОССТАНИЯ В РОССИИ в 40–70-х годах XVII в.	12
ОСВОБОДИТЕЛЬНАЯ ВОЙНА УКРАИНСКОГО И БЕЛОРУССКОГО НАРОДОВ 1648–1654 гг.	13
РОСТ ТЕРРИТОРИИ РОССИИ в XVII в. НАРОДЫ СИБИРИ И ДАЛЬНЕГО ВОСТОКА	14
РОССИЯ с конца XVII в. по 60-е годы XVIII в. (Европейская часть)	15
Полтавская битва 27.VI 1709 г.	
РОССИЙСКАЯ ИМПЕРИЯ во второй половине XVIII в. (Европейская часть)	16
Итальянский и Швейцарский походы русской армии в 1799 г.	
КОМПЛЕКТ КОНТУРНЫХ КАРТ	12 страниц



К новому учебному году ОАО "Омская картографическая фабрика" предлагает к продаже полный комплект атласов и контурных карт по географии и истории для общеобразовательных учреждений

АТЛАСЫ

Природоведение. 3-5 классы
Атлас, география. 5 класс
Физическая география. Начальный курс. 6 класс
География. Начальный курс. 6 класс
География материков и океанов. 7 класс
География России. 8-9 классы
Экономическая и социальная география мира. 10 класс
История древнего мира
История средних веков

Новая история с середины XVII века до 1870 года
Новая история с 1870 года до 1918 года
Новая история
Новейшая история
Отечественная история с древнейших времен до конца XVIII века
Отечественная история. XIX век
Отечественная история. XX век
История России

КОНТУРНЫЕ КАРТЫ

Физическая география. Начальный курс. 6 класс
География. Начальный курс. 6 класс
География материков и океанов. 7 класс
География России. 8,9 классы
Экономическая и социальная география мира. 10 класс

История древнего мира
История средних веков
Новая история
Новейшая история
История России

Атлас и контурные карты составлены
ФГУП "ПКО "Картография"
109316, г. Москва, Волгоградский просп., 45
Консультанты: доктор исторических наук Я.Е. Водарский,
кандидат исторических наук С.В. Думин
Художественное оформление обложки:
О.М. Проскурякова, А.С. Журавихина
Подготовлены к изданию
ОАО "Омская картографическая фабрика" в 2013 г.
Редактор Н.Н. Чугунова
Технический редактор Т.Ю. Набокова
Лицензия РК №10815К от 27.02.09
Подписано в печать 05.06.13 Формат бумаги 62x86
Бумага для атласа офсетная, 80 г/м² Печ. л. 2,0 Усл. печ. л. 1,97
Бумага для контурных карт офсетная, 80 г/м² Печ. л. 1,5 Усл. печ. л. 1,48
Тираж 20 000 экз. Заказ № 283
ОАО "Омская картографическая фабрика"
644070, г. Омск, ул. Куйбышева, 32
ОТДЕЛ ПРОДАЖ
Тел./факс: (3812) 56-96-71, 56-39-16, 56-96-55
E-mail: okf55@mail.ru <http://www.okf.ru>

Учеб. Атл(Омск)история+контурные
карты(Отеч.ист.с



22 68 56 88

"РИОКСА"
37-30